

慶成高等学校

令和4年度一般入学試験問題

社 会

注意

- 1 試験開始の合図があるまで、この問題冊子を開かないでください。
- 2 問題は、1ページから21ページまであります。
- 3 解答はすべて解答用紙の所定の欄に記入してください。
- 4 解答用紙の※印の欄には、何も記入しないでください。
- 5 試験時間は50分間です。
- 6 試験終了の合図で筆記用具を置き、解答用紙を裏返しにして、机の上に置いてください。
- 7 解答用紙のみ提出し、問題冊子は持ち帰ってください。

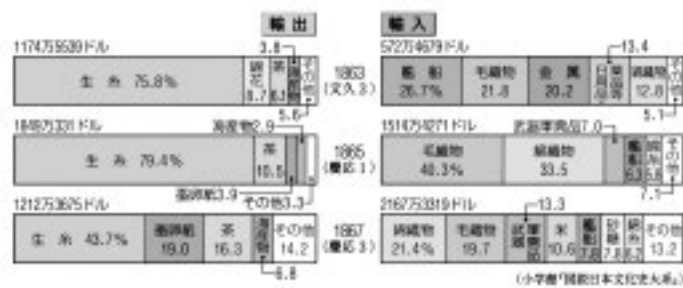
1 慶子さんは、わが国の各時代の特色についてのできごとをノートにまとめた。ノートをみて、各問に答えよ。

〈ノート〉

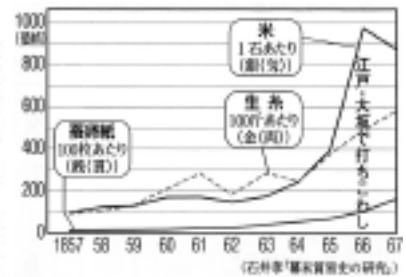
〈表〉

時代	特色
古代	○〔 X 〕 ○ア朝廷は、 <u>壘田永年私財法</u> を出した。
中世	○イ幕府は、 <u>永仁の徳政令</u> を出した。 ○① <u>承久の乱</u> がおきた。
近世	○② <u>前野良沢・杉田玄白</u> らが、 <u>オランダ語訳された本</u> を翻訳した。 ○ウ幕府は、 <u>上知令</u> を出した。
近代	○③ <u>日米修好通商条約</u> が結ばれた。 ○エ新政府は、 <u>版籍奉還</u> をおこなった。

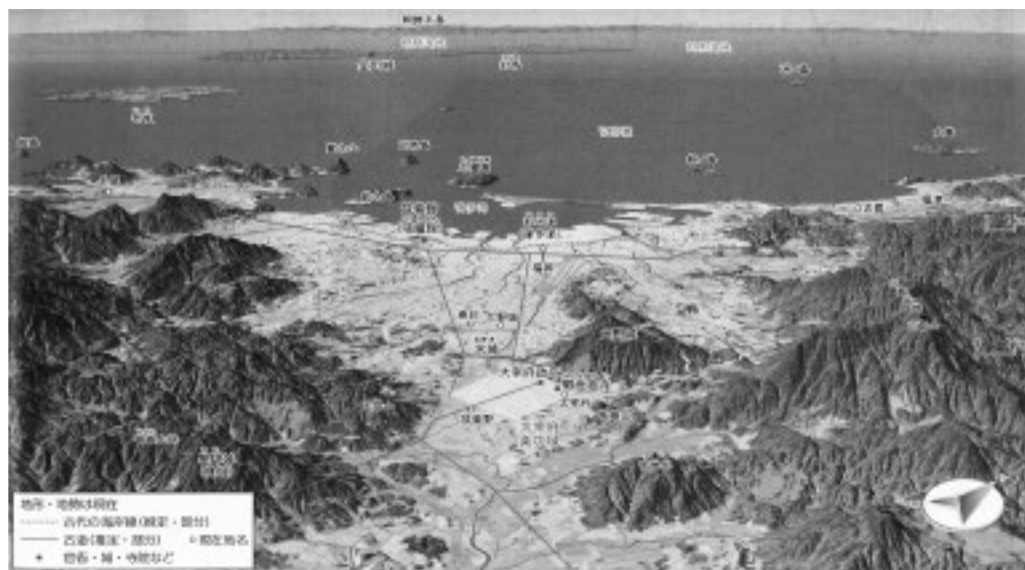
〈資料Ⅰ〉 幕末の主要貿易品の割合



〈資料Ⅱ〉 幕末の物価高騰



〈資料Ⅲ〉 古代の九州北部鳥瞰図



問1 表の下線部①について、次の1～4はその前後におきた事柄である。年代の古い順に並べよ。

- 1 御成敗式目が制定された。
- 2 応仁の乱がおきた。
- 3 保元の乱がおきた。
- 4 建武の新政がはじまった。

問2 表の下線部②について、最も関係するものを、次の1～4から一つ選び、番号で答えよ。

- 1 『愚管抄』
- 2 『西洋紀聞』
- 3 『民約訳解』
- 4 『解体新書』

問3 次の□内は、表の下線部③を資料Ⅰ、Ⅱを参考にまとめたものである。(a)と〔 b 〕にあてはまるものとして正しい組み合わせを、後の1～4から一つ選び、番号で答えよ。

大老の(a)は、朝廷の許しのないまま、ハリスとの間で条約を結んだ。それにより、〔 b 〕、庶民の生活は苦しくなっていった。

- 1 a-井伊直弼 b-米や生糸などの輸入が増え国内の生産地は大打撃を受け、安価な綿製品が大量に輸出され物価が高騰し
- 2 a-水野忠邦 b-米や生糸などの輸入が増え国内の生産地は大打撃を受け、安価な綿製品が大量に輸出され物価が高騰し
- 3 a-水野忠邦 b-安価な綿製品が大量に輸入され国内の生産地は大打撃を受け、米や生糸などは商人に買い占められ品不足になり物価が高騰し
- 4 a-井伊直弼 b-安価な綿製品が大量に輸入され国内の生産地は大打撃を受け、米や生糸などは商人に買い占められ品不足になり物価が高騰し

問4 次の□内は、表の下線部ア～エのいずれかのできごとと関係があるが、最も関係するものを、ア～エから一つ選び、記号で答えよ。

領地の売買や質入れを禁止し、これまでに手放した土地は、ただで取り返させた。

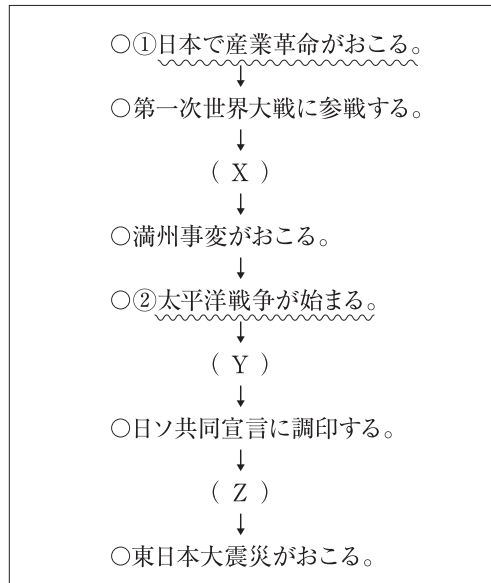
問5 次の□内は、表の〔 X 〕にあてはまる内容を、資料Ⅲを参考にまとめたものである。〔 〕にあてはまる内容を、「不安」の語句を使って書け。

唐・新羅連合軍が九州北部に〔 〕、博多湾(福岡県)の近くに「大野城」と「水城」とよばれる土塁を建設した。

2 慶太郎さんは、近代以降の特色をノートにまとめた。ノートをみて、各問に答えよ。

〈ノート〉

〈略年表〉



〈資料I〉

農地改革の成果

自作地と小作地の割合

1938 (昭13)	自作地 53.4%	小作地 46.6
1950 (昭25)	90.1%	
		9.9

自小作別の農家割合

*自作と小作の両方を行う農家。

1938 (昭13)	自作 30.7%	*自小作 42.8	小作 26.5
1950 (昭25)	61.9%		32.4
			5.0
			その他 0.7

耕地面積別の農家割合

2町以上 10.0

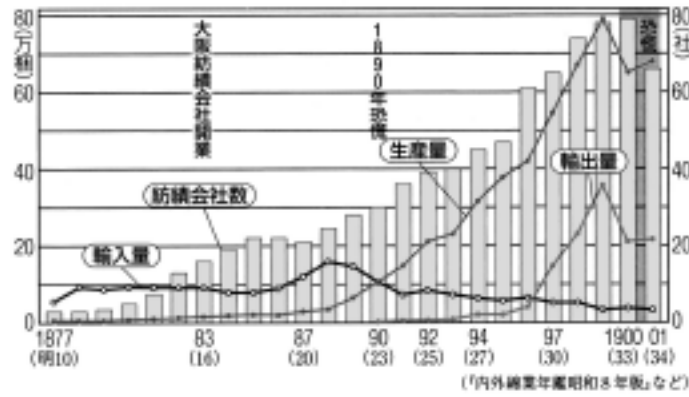
1941 (昭16)	5段以下 33.0%	5段~1町 30.3	1~2町 26.7	2町以上 10.0
1950 (昭25)	40.8%		32.0	21.7
				5.5

注) 1町=10段≒1ha

(『農林省統計表』)

〈資料Ⅱ〉

綿糸の生産量と輸出入量・紡績会社数の推移



〈資料Ⅲ〉

日本が獲得しようとした南方の資源



〈資料Ⅳ〉

スターリンと松岡洋右



問1 略年表中の(X)の期間にあてはまる内容として最も適切なものを、次の1～4から一つ選び、番号で答えよ。

- 1 シベリア出兵による米価の高騰により、米騒動がおきた。
- 2 日露戦争に勝利し、ポーツマス条約を結んだ。
- 3 五・一五事件によって、政党内閣の時代が終わった。
- 4 日独伊三国同盟が結ばれた。

問2 次の□内は、略年表中の(Y)の期間にあてはまる内容として、資料Iを参考にまとめたものである。

[a]にあてはまる内容を、「小作人」の語句を使って書け。また、[b]に適切な内容を書け。

政府が地主の小作地を[a]、自作農の割合が[b]。

問3 次の1～4は、略年表中の(Z)の期間のできごとである。年代の古い順に並べよ。

- 1 イラクに自衛隊が派遣される。
- 2 ヨーロッパ連合(EU)が発足される。
- 3 沖縄が日本に復帰する。
- 4 日韓基本条約が結ばれる。

問4 次の□内は、略年表中の波線①の明治時代の紡績業を、資料IIを参考にまとめたものである。

[a](b) [c]にあてはまるものとして正しい組み合わせを、後の1～4から一つ選び、番号で答えよ。

1883年に開業した大阪紡績会社の成功で、大規模な紡績会社が次々と設立された。綿糸の生産量が増え、1890年には、[a]。1894年の綿糸輸出税の廃止や、(b)戦争の勝利により、中国・朝鮮への綿糸の輸出が増え、1897年には、[c]。

- | | | | |
|---|--------------------|------|--------------------|
| 1 | a-綿糸輸出量が綿糸輸入量を上回った | b-日清 | c-綿糸生産量が綿糸輸入量を上回った |
| 2 | a-綿糸生産量が綿糸輸入量を上回った | b-日露 | c-綿糸輸出量が綿糸輸入量を上回った |
| 3 | a-綿糸生産量が綿糸輸入量を上回った | b-日清 | c-綿糸輸出量が綿糸輸入量を上回った |
| 4 | a-綿糸輸出量が綿糸輸入量を上回った | b-日露 | c-綿糸生産量が綿糸輸入量を上回った |

問5 次の□内は、略年表中の波線②の背景について、資料III、IVを参考にまとめたものである。

[a]にはあてはまる内容を、「戦争」と「資源」の語句を使って書け。また、(b)に条約名を書け。

1940年、ヨーロッパでドイツの戦況が優勢になると、日本はドイツと軍事同盟を結び、軍事力による東南アジアへの進出を開始した。アメリカなどが中国を援助するルートを断ち切るとともに、[a]することを目的に、フランス領インドシナ北部に軍を進め、翌年(b)条約を結び北方の安全を確保し、フランス領インドシナ南部に軍を進めた。

3 慶太郎さんは、世界の国の特色などについて調べるため、略地図を作成し、資料を集めた。略地図と資料をみて、各問に答えよ。

〈略地図〉

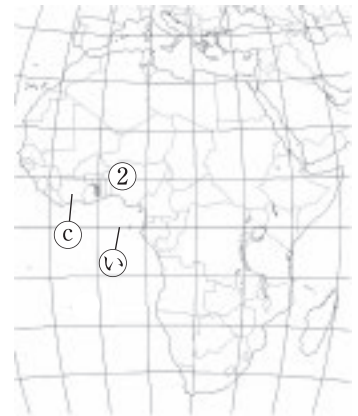
A



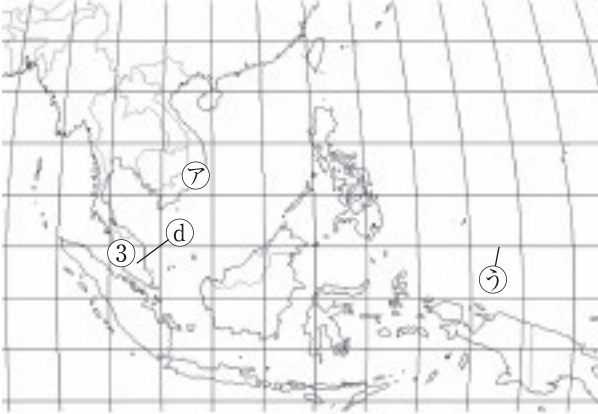
B



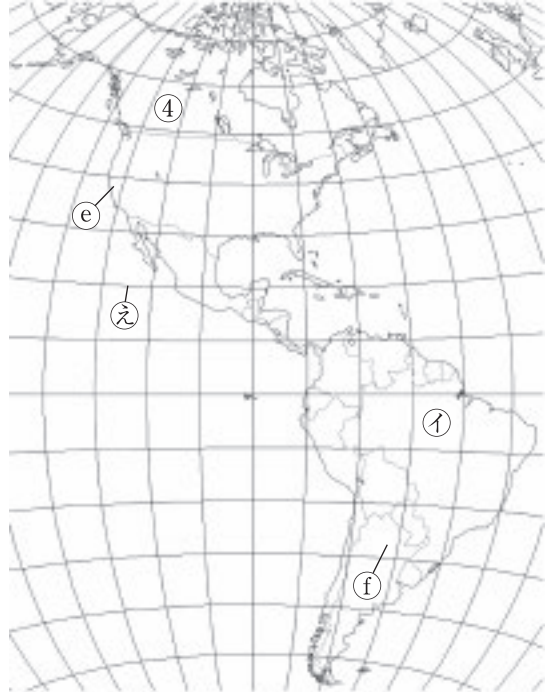
C



D



E



F



G



H

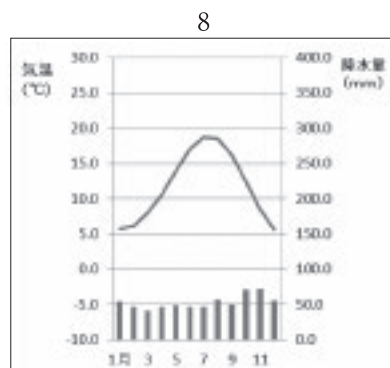
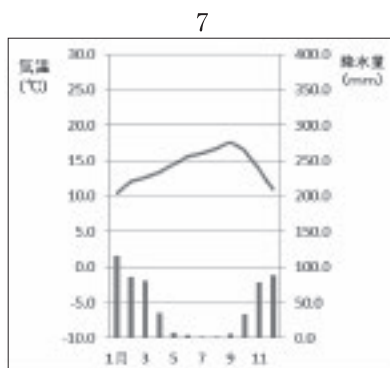
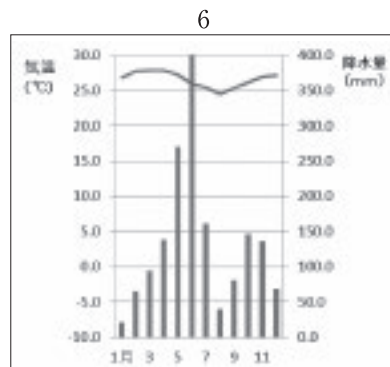
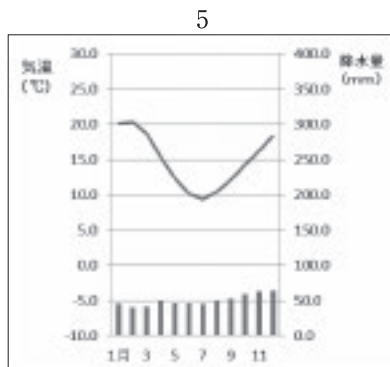
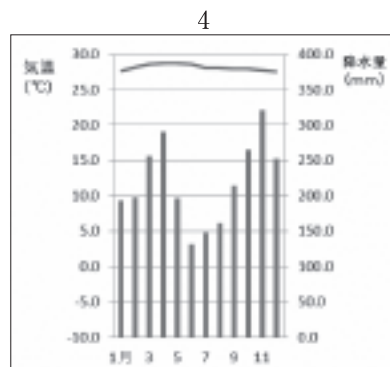
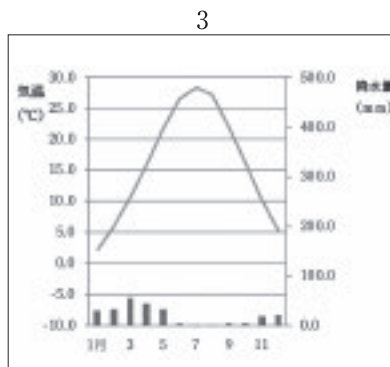
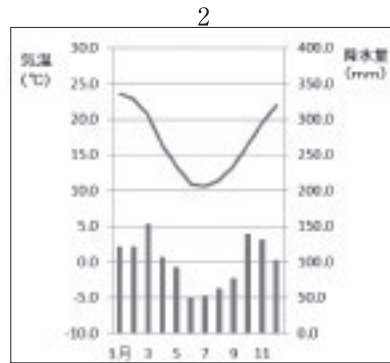
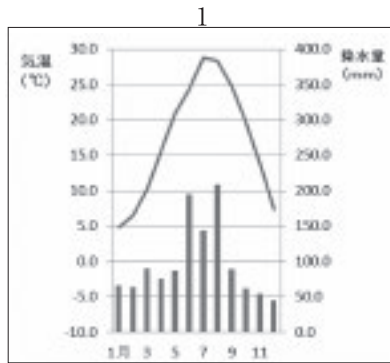


問1 略地図Aに示すPの緯線と同じ緯度の緯線を、略地図BCDEFGHの㊸～㊻から一つ選び、記号で答えよ。

問2 慶太郎さんの住む北九州市が1月2日午後2時のとき、略地図Bの国の首都(東経150度)は、何月何日の何時か答えよ。ただし、時刻には午前か午後を記入すること。

問3 資料Iの雨温図の1～8は、略地図の㊸～㊼のいずれかの都市の雨温図である。㊸にあてはまるものを、次の1～8から一つ選び、番号で答えよ。

〈資料I〉



問4 資料ⅡのX～Zは、略地図の㉗～㉙の各国のいずれかを示している。X～Zにあてはまる国を正しく組み合わせたものを、後の1～6から一つ選び、番号で答えよ。

〈資料Ⅱ〉

項目 国	輸出総額 (百万ドル) 2018年	輸出上位3品目と 輸出総額に占める割合 (%) 2018年	輸出相手国上位5ヶ国 2018年				
			第1位	第2位	第3位	第4位	第5位
X	242363	大豆(13.8) 原油(10.5) 鉄鉱石(8.4)	中国	アメリカ合衆国	アルゼンチン	オランダ	チリ
Y	1560539	機械類(28.2) 自動車(16.5) 医薬品(6.3)	アメリカ合衆国	フランス	中国	オランダ	イギリス
Z	238866	機械類(40.4) 衣類(11.9) はきもの(6.9)	アメリカ合衆国	中国	日本	韓国	(香港)

〔「世界国勢図絵 2020 / 2021」より作成〕

- 1 ㉗-X ㉘-Y ㉙-Z
- 2 ㉗-Y ㉘-X ㉙-Z
- 3 ㉗-Z ㉘-X ㉙-Y
- 4 ㉗-X ㉘-Z ㉙-Y
- 5 ㉗-Y ㉘-Z ㉙-X
- 6 ㉗-Z ㉘-Y ㉙-X

問5 資料Ⅲは、略地図の①～⑧の国ごとのデータである。資料Ⅲから読み取れる説明で最も適当なものを、後の1～4から一つ選び、番号で答えよ。ただし、適当なものがない場合は、5と回答せよ。

〈資料Ⅲ〉

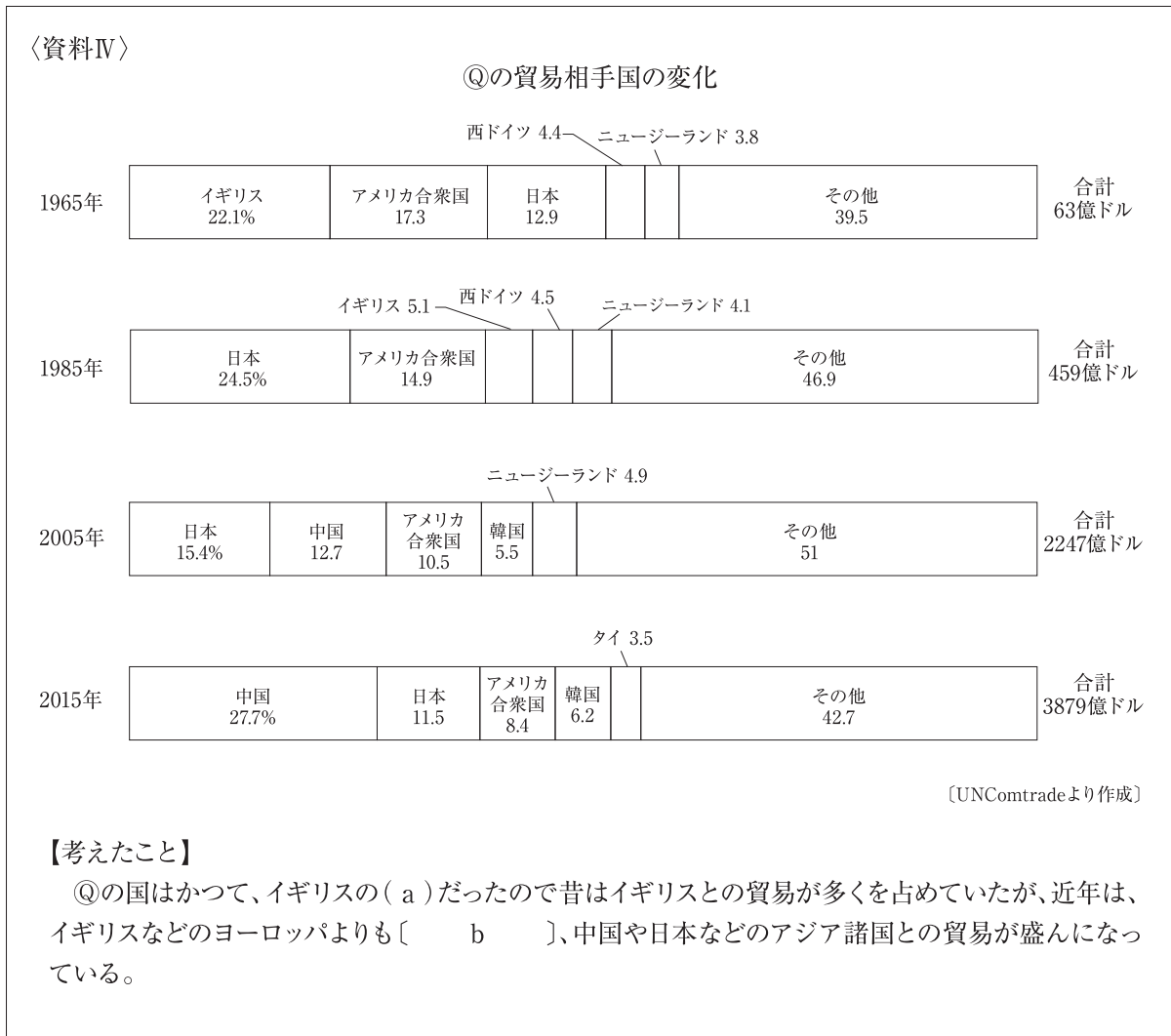
項目 国	2017年 平均寿命 (年)	2017年 乳児死亡率 (%)	おもな宗教 (%)	2018年 国内総生産 成長率(%)	2016年 二酸化炭素排出量 (百万t-CO ₂)	2017年 国際観光客数 (千人)
①	84.1	1.9	神道、仏教	0.8	1147.1	28691
②	53.9	64.6	イスラム教51 キリスト教48	1.9	86.0	1889
③	75.5	6.7	イスラム教60 仏教19	4.7	216.2	25948
④	82.5	4.5	キリスト教70	1.8	540.8	20798
⑤	82.3	2.3	スウェーデン国教会71	2.3	38.0	7054
⑥	72.1	6.5	キリスト教58	2.3	1438.6	24390
⑦	74.7	6.3	イスラム教94	2.2	527.2	16109
⑧	68.8	32.0	ヒンドゥー教80 イスラム教14	7.1	2076.8	15543

〔「2020データブック」などから作成〕

- 1 おもな宗教でキリスト教が多い地域は、国内総生産成長率が高くなっており、乳児死亡率も高くなっている。
- 2 アジア州の国々は他の州に比べ平均寿命が低く、乳児死亡率も低くなっている。
- 3 二酸化炭素排出量が少ない国々は、比例して国際観光客数も多くなっている。
- 4 治安が悪い地域は、国際観光客数も少なく、国内総生産の成長率も他の地域に比べ圧倒的に低くなっている。

問6 次のノートは、慶太郎さんが日本との貿易のつながりが深い④の国について、まとめたものである。資料IVを参考に、(a)にあてはまる語句を書け。また、[b]にあてはまる内容を、「距離」と「人口」の語句を使って書け。

〈ノート〉



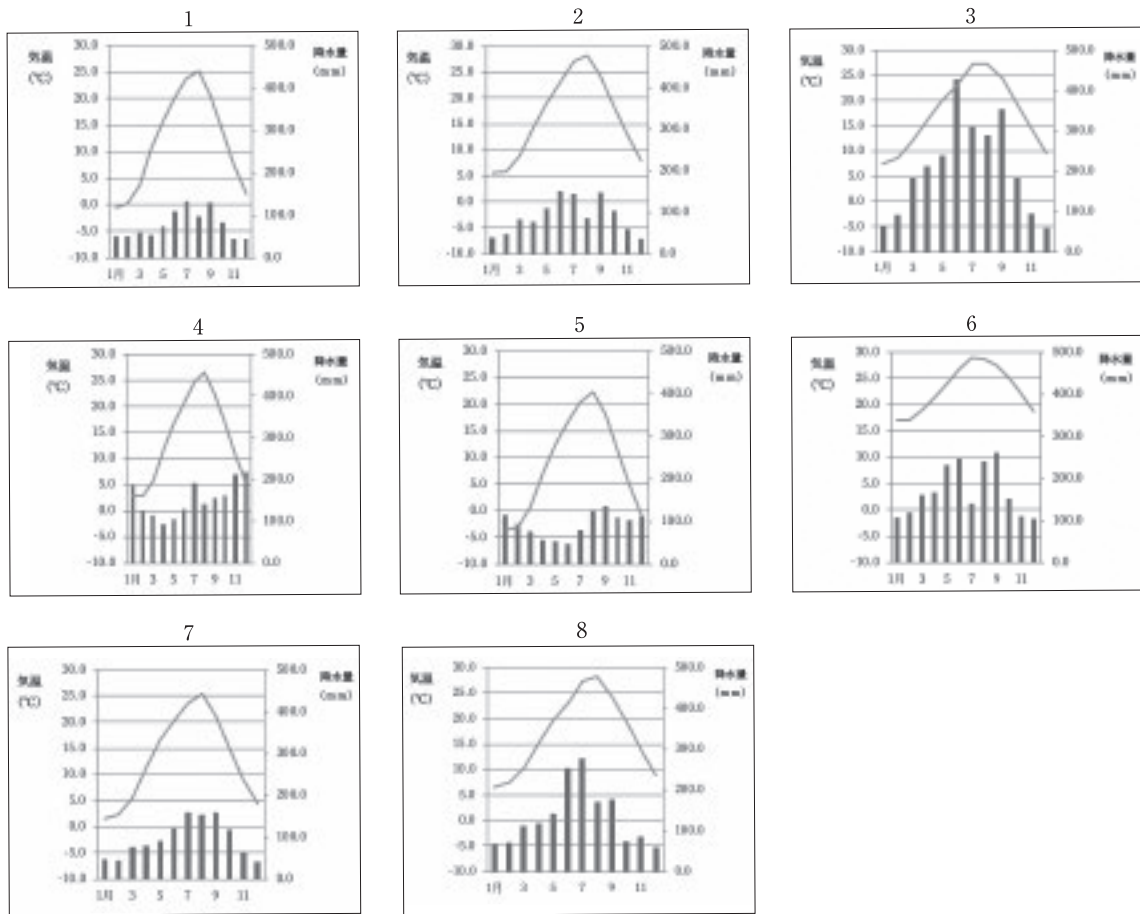
4 慶子さんは、日本の特色などについて調べるため、略地図を作成し、資料を集めた。略地図と資料をみて、各問に答えよ。

〈略地図〉



問1 資料Iの雨温図の1～8は、略地図の①～⑧のいずれかの都市の雨温図である。①にあてはまるものを、次の1～8から一つ選び、番号で答えよ。

〈資料I〉



問2 資料ⅡのA～Eには、略地図の㊶～㊸の都道府県のいずれかがあてはまる。

①Bにあてはまる県の県庁所在地を答えよ。(漢字表記の場合は漢字で答えよ。)

②後のノートは、慶子さんが、D、Eにあてはまる県にみられる発電電力量の新しいエネルギーに着目し、まとめたものである。資料Ⅲ、資料Ⅳを参考に、〔 a 〕にあてはまる内容を、「自給率」の語句を使って書け。また、(b)にあてはまる語句を書け。

〈資料Ⅱ〉

項目 都道府県	作物の収穫量			発電電力量 2019年	漁獲量 2015年	製造品出荷額等(十億円) 2016年			おもな 伝統工芸品
	小麦 (百t) 2017年	キャベツ (千t) 2015年	ぶどう (千t) 2015年	地熱 (百万kWh)	さけ類 (t)	金属製品	化学工業	輸送用 機械器具	
A	75	71	26	・・・	・・・	294	112	367	木曾漆器
B	135	111	2	・・・	2	818	1414	597	結城つむぎ
C	29	29	3	・・・	X	820	1999	1496	播州そろばん
D	77	14	3	820	・・・	65	477	591	別府竹細工
E	4711	61	6	100	67707	270	187	372	アットゥシ織

〔「・・・」は、出荷量が少ないため、調査されていないことを示す。太字は全国第5位まで。Xは秘匿にされている数字。「データでみる県勢2021」、「農林水産省統計情報」、「2020データブック」より作成〕

〈資料Ⅲ〉

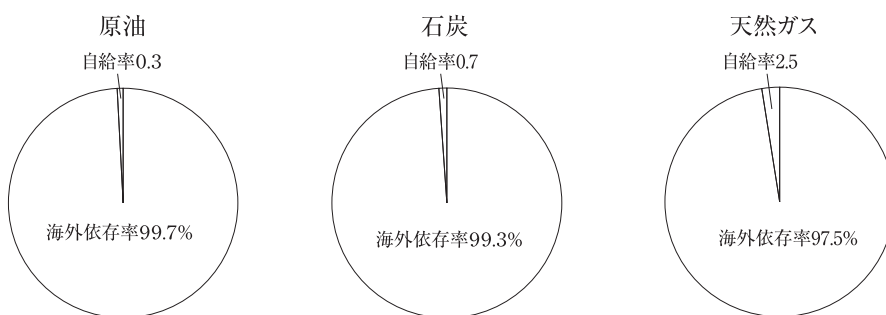
日本のエネルギー源の割合



〔日本国勢図絵2020/2021より作成〕

〈資料Ⅳ〉

2017年日本のおもな鉱産資源の自給率



〔日本国勢図絵2020/2021より作成〕

【考えたこと】

現在、エネルギー源のほとんどが鉱産資源に依存している中、日本は〔 a 〕という問題をかかえており、今後は太陽光、水力、風力、地熱などの(b)を利用した発電を拡大していくべきだ。

問3 次の [] 内は、資料Vについて、慶子さんの学校での会話の一部である。[] にあてはまる内容を、「避難」の語句を使って書け。

〈会話文〉

慶子さん : 資料Vの地図をみると、この地域では大雨などの災害がおきたときに、洪水などの災害が起きる可能性がある区域があることがわかりました。

先生 : そうですね。では、資料Vはある自治体のハザードマップですが、このようなハザードマップを作ることで、大雨や台風や地震などの被害を最小限にするために、どのようなまちづくりをしていますか？

慶子さん : はい。防災や減災のために[]。

先生 : そうですね。日頃から自分の住んでいるまちのハザードマップを見ておくと良いですね。

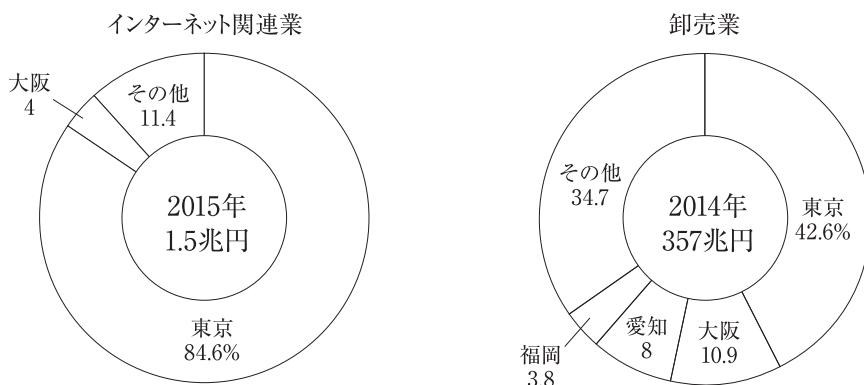
〈資料V〉

大江町で作成された地図の一部



問4 後の 内は、慶子さんが、日本のサービス業について、資料Ⅵを作成し、東京に企業の本社や本店が集中する理由をまとめたものである。[]にあてはまる内容を、「情報」の語句を使って書け。

〈資料Ⅵ〉



[データでみる県勢より作成]

首都である東京には国の中枢機能が集中しており、[]。

5 次の日本国憲法や資料をみて、各問に答えよ。

【日本国憲法】

第9条 ①日本国民は、正義と秩序を基調とするA.国際平和を誠実に希求し、国権の発動たる戦争と、(a)による威嚇又は(a)の行使は、国際紛争を解決する手段としては、永久にこれを放棄する。

第13条 すべて国民は、個人として尊重される。生命、自由および幸福追求に対する国民の権利については、(b)に反しない限り、立法その他の国政の上で、最大の尊重を必要とする。

第27条 ①すべて国民は、B.勤労の権利を有し、義務を負う。

第54条 ①C.衆議院が解散されたときは、解散の日から(c)日以内に、衆議院議員の総選挙を行い、その選挙の日から30日以内に、国会を召集しなければならない。

第69条 内閣は、衆議院で不信任の決議案を可決し、又は信任の決議案を否決したときは、(d)日以内に衆議院が解散されない限り、総辞職をしなければならない。

第82条 ①D.裁判の対審及び判決は、(e)法廷でこれを行う。

問1 (a)(b)(c)(d)(e)にあてはまる語句の組み合わせとして正しいものを、次の1～4から一つ選び、番号で答えよ。

- | | | | | | |
|---|------|---------|------|------|-------|
| 1 | a-軍隊 | b-公共の福祉 | c-10 | d-30 | e-公開 |
| 2 | a-武力 | b-社会保障 | c-10 | d-30 | e-非公開 |
| 3 | a-軍隊 | b-社会保障 | c-40 | d-10 | e-非公開 |
| 4 | a-武力 | b-公共の福祉 | c-40 | d-10 | e-公開 |

問2 下線部Aに関連した、次のX・Yの文を読み、その正誤の組み合わせとして正しいものを、後の1～4から一つ選び、番号で答えよ。

X： NGO(非政府組織)の活動分野は、発展途上国や紛争地域における医療、貧困対策、農業、技術支援、環境保護などにわたり、近年では、フェアトレードに代表される、途上国の生産現場と消費者を直接つなぐ活動が目ざされている。


Y： イラクやアフガニスタンなどのイスラム地域、内戦に見舞われたアフリカ諸国などでは、食糧不足もあって深刻な難民問題が起きており、近年では、国連難民高等弁務官事務所(UNHCR)が中心となり、難民の保護救済活動が進められ、日本でも積極的に難民を受け入れ、問題の解決の兆しがみえている。

- | | | |
|---|-----|-----|
| 1 | X-正 | Y-正 |
| 2 | X-正 | Y-誤 |
| 3 | X-誤 | Y-正 |
| 4 | X-誤 | Y-誤 |

問3 下線部Bについて、後の□内は、女性の活躍分野の拡大に関して、女性の年齢階級別労働力率の国際比較をまとめた資料を参考に説明したものである。〔 〕にあてはまる内容を、「出産」と「育児」の語句を使って書け。なお〔 〕には同じ内容が入る。

〈資料I〉

女性の年齢階級別労働力率の国際比較



近年日本では、以前より育児支援制度が整備されたこともあり、以前に比べ、〔 〕女性が多くなっているが、諸外国と比べるとまだ〔 〕女性の比率は高くない傾向にある。

問4 下線部Cについて、次の□内は、衆議院の優越についてまとめたものである。〔 〕にあてはまる内容を、「任期」と「解散」と「民意」の語句を使って書け。

衆議院のほうが参議院よりも、〔 〕優越されている。

問5 下線部Dについて、次の□内は、2009年に導入された裁判員制度についてまとめたものである。〔 〕にあてはまる内容を、「理解」と「感覚」の語句を使って書け。

裁判員制度は、国民が裁判員として刑事裁判に参加し、裁判官と一緒に被告人の有罪・無罪や刑の内容を決める制度です。国民が刑事裁判に参加することによって期待されるのは、〔 〕ことです。

6 慶子さんの家での会話文を読み、後の問に答えよ。

慶子：今日、学校の授業で、コロナの影響などで景気が落ち込み、国の財政状況が厳しいということを先生が話をしていたけど、どうなのかな？

父：確かに景気が悪いから、国のA. 税収も落ち込むかもしれないね。

慶子：国の税収が減れば、私たちの暮らしにも影響が出る可能性があるのかな？

父：そうならないように、政府はB. 景気の状況を見極めて、色々な対策をしていくと思うよ。

慶子：C. 社会保障関係の費用の問題もあるし、大変だね。

父：難しい問題だね。景気を良くするためには、今はD. 環境への配慮も考えて経済活動していかなければならないしね。

慶子：なるほどね。それもそうだけど、今コロナ禍でインターネットでのE. オンライン・ショッピング（インターネット通販）が流行っているらしいね。

父：そうだね。コロナ禍でも売上げが上がっている企業もあるみたいだけど、色々な問題もあるから注意して使っていないといけないね。

慶子：うん。しっかり情報を確認して使っていきます。

問1 下線部Aについて、次のX・Yの文を読み、その正誤の組み合わせとして正しいものを、後の1～4から一つ選び、番号で答えよ。

X：日本では、租税総額に占める割合は、間接税よりも直接税の方が大きい。
Y：間接税には消費税のほかにも相続税などがあり、すべて国税に含まれる。

- 1 X-正 Y-正
- 2 X-正 Y-誤
- 3 X-誤 Y-正
- 4 X-誤 Y-誤

問2 下線部Bについて、

①不景気の場合、政府が行う財政政策はどのようなものがあるか、次の語群を使用し、簡潔に答えよ。

【語群】税金 公共事業

②日本銀行の金融政策について、次の□内の(a)と(b)にあてはまる語句の組み合わせとして最も適当なものを、後の1～4から一つ選び、番号で答えよ。

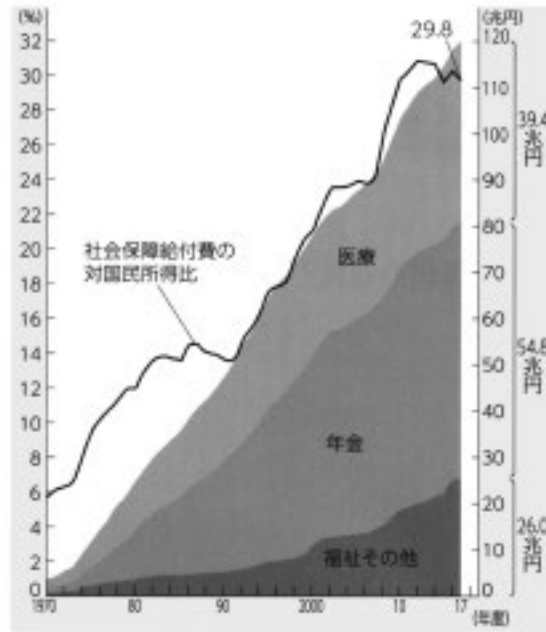
日本銀行は、(a)のとき、一般の銀行から国債などを買い、一般の銀行がもつ通貨量を(b)、景気を調整しようとする。

- 1 a-不景気 b-増やし
- 2 a-不景気 b-減らし
- 3 a-好景気 b-増やし
- 4 a-好景気 b-減らし

問3 下線部Cについて、後の 内は、少子高齢化の進行がもたらす日本の社会保障の課題についてまとめたものである。[]にあてはまる内容を、資料Iと資料IIを関連づけ、「高齢者」と「生産年齢人口」の語句を使って書け。

〈資料I〉

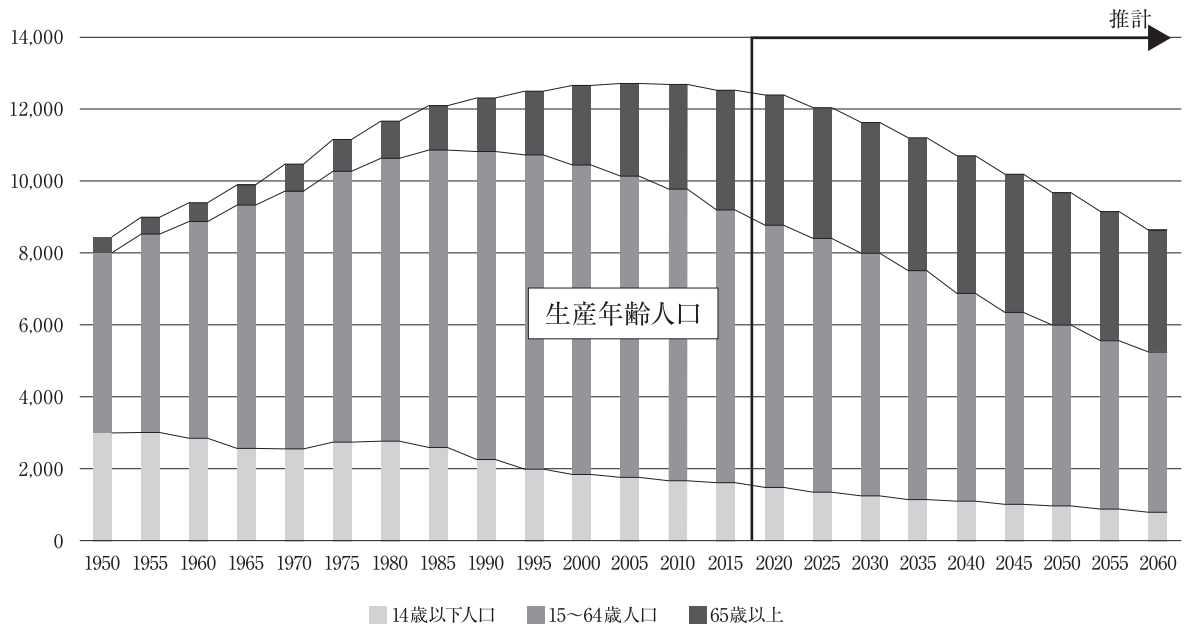
日本の社会保障給付費の推移



【国立社会保障・人口問題研究所資料より作成】

〈資料II〉

日本の総人口の推移



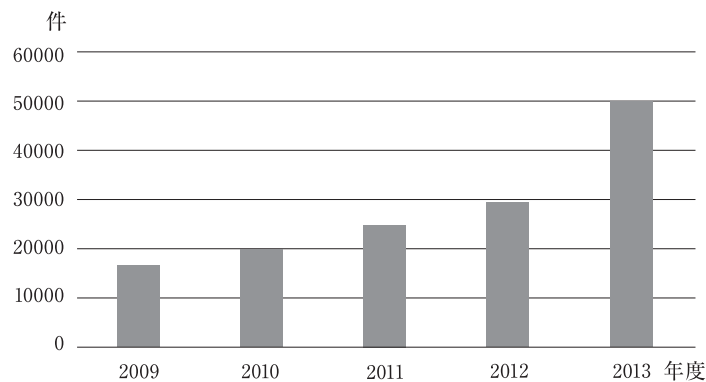
少子高齢化にともない、[], 保険料収入と税収が減少すること。

問4 下線部Dについて、次の [] 内は、環境を保全するための対策としての一つである環境アセスメントの説明である。[] にあてはまる内容を、「環境」の語句を使って書け。

工場建設や地域開発など大規模な開発にあたって、住民の意向を尊重し、事前に [] 制度である。

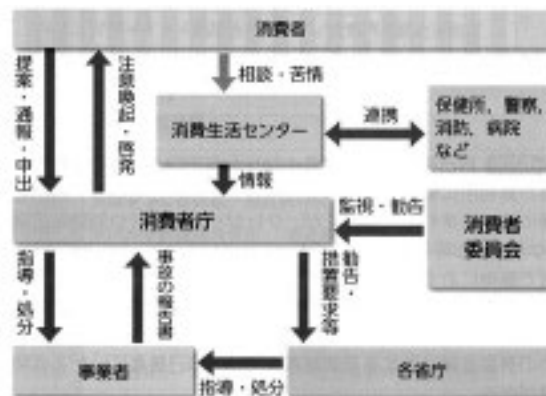
問5 下線部Eについて、後の [] 内は、オンライン・ショッピング(インターネット通販)の市場の拡大に伴う、消費者問題に対する行政機関の取り組みとその目的をまとめたものである。[] にあてはまる内容を、資料Ⅲと資料Ⅳを関連づけ、「相談件数」と「消費者」の語句を使って書け。

〈資料Ⅲ〉 消費者生活センターに寄せられたオンライン・ショッピング(インターネット通販)についての相談件数



〈資料Ⅳ〉

消費者庁



オンライン・ショッピング(インターネット通販)の市場が拡大するとともに、[]、行政機関が消費者に注意喚起や啓発、事業者に指導や処分などを行っている。