

# 慶成高等学校

## 令和8年度一般入学試験問題

# 社 会

### 注意

- 1 試験開始の合図があるまで、この問題冊子を開かないでください。
- 2 問題は、1ページから14ページまであります。
- 3 解答はすべて解答用紙の所定の欄に記入してください。
- 4 解答用紙の※印の欄には、何も記入しないでください。
- 5 試験時間は50分間です。
- 6 試験終了の合図で筆記用具を置き、解答用紙を裏返しにして、机の上に置いてください。
- 7 解答用紙のみ提出し、問題冊子は持ち帰ってください。

1


慶子さんは、わが国の各時代の特色についてのできごとをノートにまとめた。ノートをみて、各問に答えよ。

〈ノート〉

〈表〉

時代	特色	文化
古代	○①白村江の戦いがおこる。 ○ア藤原道長が摂政となる。	○〔 あ 〕
中世	○【 X 】 ○イ足利義満が征夷大將軍となる。	○〔 い 〕
近世	○ウ松平定信が老中となる。 ○②大塩の乱がおこる。	○〔 う 〕
近代	○エ井伊直弼が大老となる。 ○③大阪紡績会社ができる。	○〔 え 〕

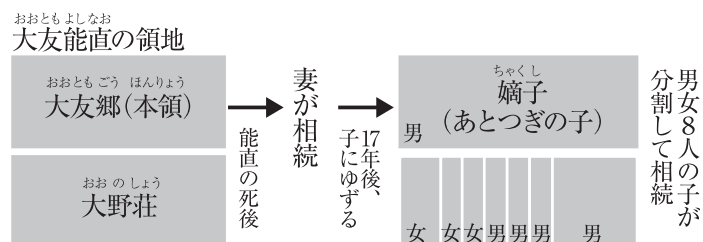
〈資料I〉



〈資料II〉



〈資料III〉



問1 次の□内は、表の下線部①について説明したものである。資料Iを参考に、〔 〕にあてはまる内容を答えよ。

唐・新羅連合軍が九州北部に〔 〕, 博多湾(福岡県)の近くに「大野城」と「水城」とよばれる土塁を建設した。

問2 次の□内は、表の【 X 】にあてはまる内容を、資料IIとIIIを参考にまとめたものである。

①〔 a 〕にあてはまる内容を答えよ。②〔 b 〕にあてはまる語句を答えよ。

元軍との戦いで日本軍は火器や集団戦法に苦しめられたが、暴風雨の影響もあり九州を中心とする御家人の活躍により元軍は退却した。しかし、幕府は御家人に対して〔 a 〕, 幕府への不満が高まった。さらに御家人は〔 b 〕相続を繰り返す、領地が減少し商業の発達とともに支出が増加し、貨幣経済にも対応できていなかったため、高利貸しに借金を重ねて領地を失う御家人も出てきた。

問3 表の下線部②に関して、次の1～4はその前後に起きた事柄である。年代の古い順に並べ、番号で答えよ。

- 1 異国船打払令が出される。
- 2 桜田門外の変がおこる。
- 3 蛮社の獄がおこる。
- 4 日米和親条約を結ぶ。

問4 次の□内は、表の下線部③に関連したものを説明したものである。最も関係するものを、後の1～4から一つ選び、番号で答えよ。

第一国立銀行や大阪紡績会社をはじめ約500社の会社の設立に関わり、経済の発展に尽力した。

- 1 前島密
- 2 福沢諭吉
- 3 中江兆民
- 4 渋沢栄一

問5 次の□内は、表の下線部ア～エのいずれかのできごとと関係があるが、最も関係するものを、ア～エから一つ選び、記号で答えよ。

武芸を奨励し、昌平坂学問所では朱子学以外を教えることを禁止し、試験で有能な役人を登用した。

問6 表の〔 あ 〕～〔 え 〕には、次の1～4のできごとがあてはまる。〔 あ 〕～〔 え 〕にあてはまるものを、次の1～4からそれぞれ一つずつ選び、番号で答えよ。

- 1 正岡子規が写生風の俳句や短歌をよみ、独自の作風を開いた。
- 2 和歌がさかんとり、大伴家持がまとめたといわれる『万葉集』がつくられた。
- 3 『平家物語』は琵琶法師によって武士や、文字を知らない人々にも語り広められた。
- 4 喜多川歌麿・鈴木春信が美人画を描き、東洲斎写楽が個性豊かな役者絵などを描いた。

2

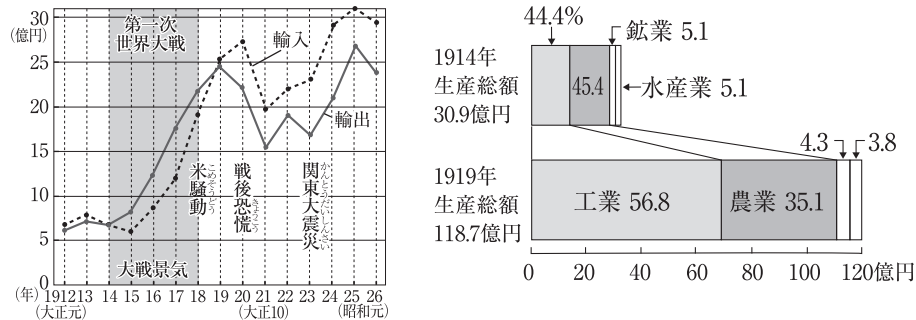
社会科の授業でA～Dの4つの班に分かれて、近現代の戦争について調べ、発表をおこなうことになった。下の〈資料I〉～〈資料IV〉は、各班で作成した発表資料の一部である。これらの資料をみて、各問に答えよ。

〈資料I〉 1901年、①官営八幡製鉄所が開業し、大型の軍艦や商船の国産化が可能になりました。他にも鉄道のレールや車輪をつくる工場、銃身用の鋼をつくる工場もありました。



〔『詳説日本史』浜島書店より引用〕

〈資料II〉 ②第一次世界大戦によって日本経済は好況になりました。連合国やその植民地、アメリカへの工業製品の輸出が大幅に増える一方、戦争で欧米からの輸入が減少したことから鉄鋼や造船など重化学工業が成長し、工業国としての基礎が築かれました。

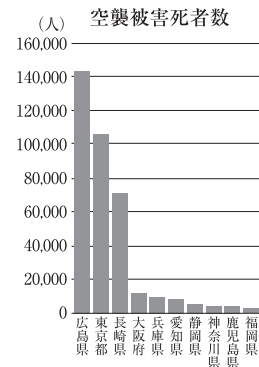


〔『明治以降本邦主要経済統計』・『日本資本主義発達史年表』より引用〕

〈資料III〉

1941年12月	太平洋戦争がはじまる
1942年 4月	東京・神奈川などで初めてアメリカ軍の空襲を受ける
1944年 6月	中国から飛来したB29爆撃機によって八幡が空襲を受ける
7月	アメリカ軍がマリアナ諸島を占領、日本全域が空襲圏内に入る
1945年 3月	東京大空襲
8月	広島・長崎に原爆投下、終戦

〔「都道府市区町村」https://uub.jpより引用〕



〈資料IV〉 1950年に始まった③朝鮮戦争でアメリカ軍は日本の基地から出動し、下の写真のように物資の調達や兵器の修理も日本で行いました。④日本は好景気となり、経済の復興が早まりました。



問1 次の□内は、資料Ⅰの下線部①について説明したものである。①( a )にあてはまる語句を答えよ。

②資料Ⅰを参考に[ b ]にあてはまる内容を答えよ。

官営八幡製鉄所は1895年に結ばれた( a )によって得られた賠償金をもとに建設された。製鉄所を建設する際に八幡の地が選ばれたのは、原料の鉄鉱石を中国や朝鮮から輸入しやすい港があり、燃料の石炭も[ b ]であったためである。

問2 次の□内は、資料Ⅱの下線部②について説明したものである。( )にあてはまる語句を答えよ。

第一次世界大戦が終結し、戦争の悲惨さや大きな被害が戦争反対の風潮を強め、1920年代は国際協調の時代と呼ばれた。1923年に( )で結ばれた海軍軍縮条約は、歴史上、初めて結ばれた国際的な軍備縮小の取り決めである。

問3 下線部②に関して、資料Ⅱの2つのグラフから読みとれることとして最も適当なものを、次の1～4から一つ選び、番号で答えよ。

- 1 第一次世界大戦中の日本経済は輸入が輸出を上回り、貿易収入が増えたことで、大戦景気と呼ばれた。
- 2 第一次世界大戦後の日本経済は輸出が輸入を上回り、貿易収入が減少したことで、戦後恐慌と呼ばれた。
- 3 第一次世界大戦前の諸産業の生産額では農業が工業を上回り、軽工業が発展し工業国の基礎が築かれていた。
- 4 第一次世界大戦後の諸産業の生産額では工業が農業を上回り、重化学工業が発展し工業国の基礎が築かれた。

問4 次の□内は、資料Ⅲの年表とグラフをふまえた説明文である。資料を参考に( a )( b )にあてはまる都市の組み合わせとして正しいものを、後の1～4から一つ選び、番号で答えよ。

第二次世界大戦は、第一次世界大戦を上回る規模の総力戦になった。戦場とそれ以外の区別がますますあいまいになり、都市に対する空襲をはじめ敵国の経済力に打撃をあたえたり、戦意を失わせたりする戦術がとられた。

日米両軍とも都市空襲をおこなったが、アメリカ軍の空襲はより大規模であった。空襲被害死者数のグラフを見ると、大規模な空襲を受けた( a )と、原子爆弾を受けた( b )の上位3県と、それ以外の道府県に大きな特徴がある。

- 1 a：広島 b：東京・長崎
- 2 a：東京 b：広島・長崎
- 3 a：大阪 b：広島・東京
- 4 a：福岡 b：東京・長崎

問5 下線部③に関して、次の1～4はその前後に起きた事柄である。年代の古い順に並べ、番号で答えよ。

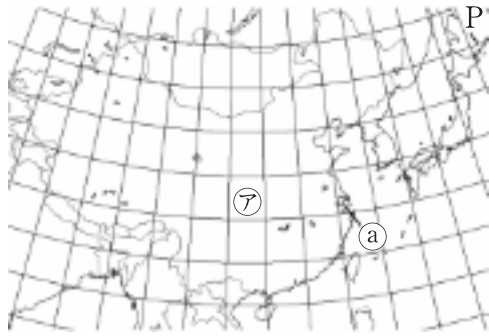
- 1 日中平和友好条約が結ばれ、政治・経済面で関係が深まった。
- 2 二度の世界大戦の反省から、国際連合が創設された。
- 3 アメリカなどの国々と、サンフランシスコ平和条約を結んだ。
- 4 日米安全保障条約が改定されたが、激しい反対運動がおこった。

問6 下線部④に関して、この好景気を何というか。

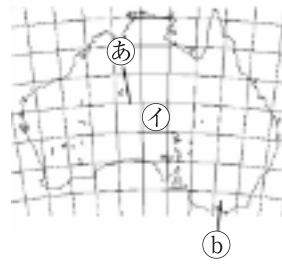
3 慶太郎さんは、世界の国の特色などについて調べるため、略地図を作成し、資料を集めた。略地図と資料をみて、各問に答えよ。

〈略地図〉

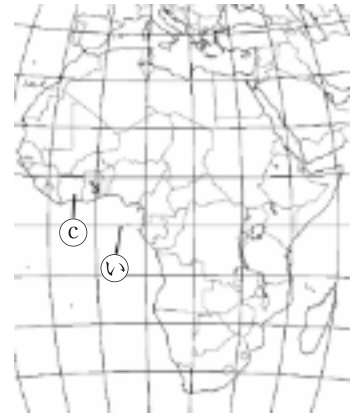
A



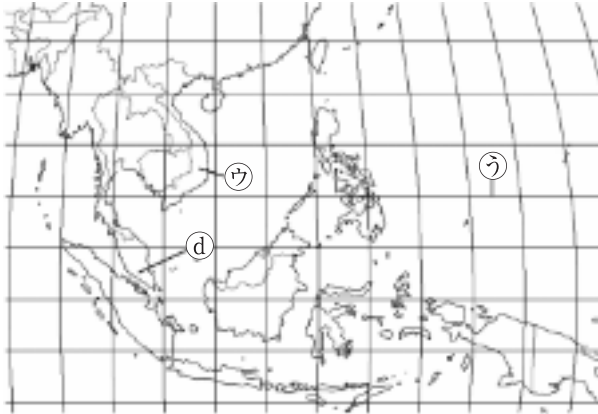
B



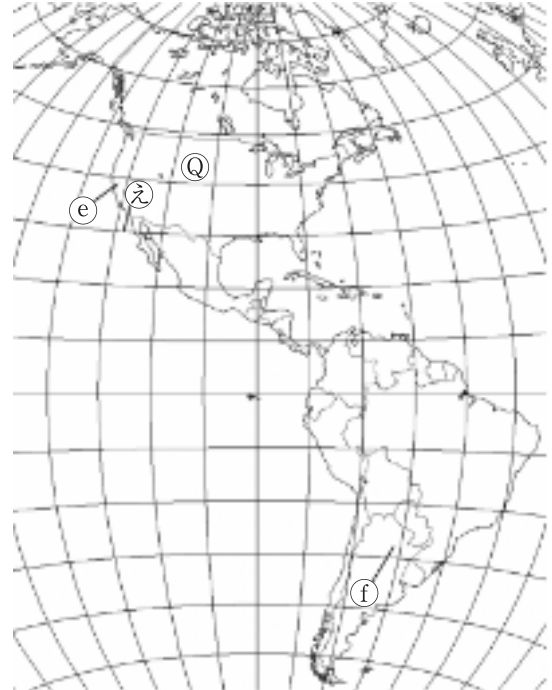
C



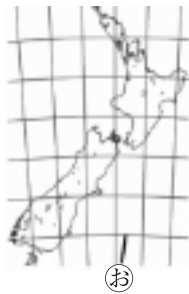
D



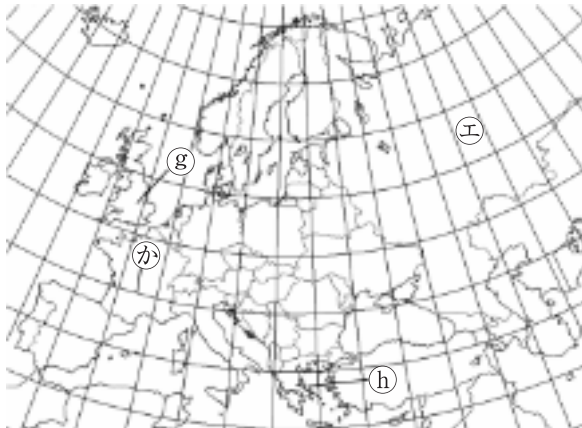
E



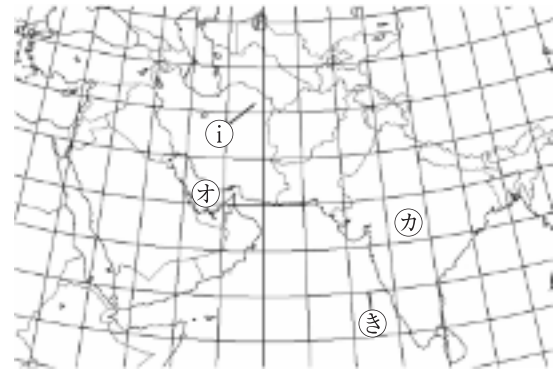
F



G



H

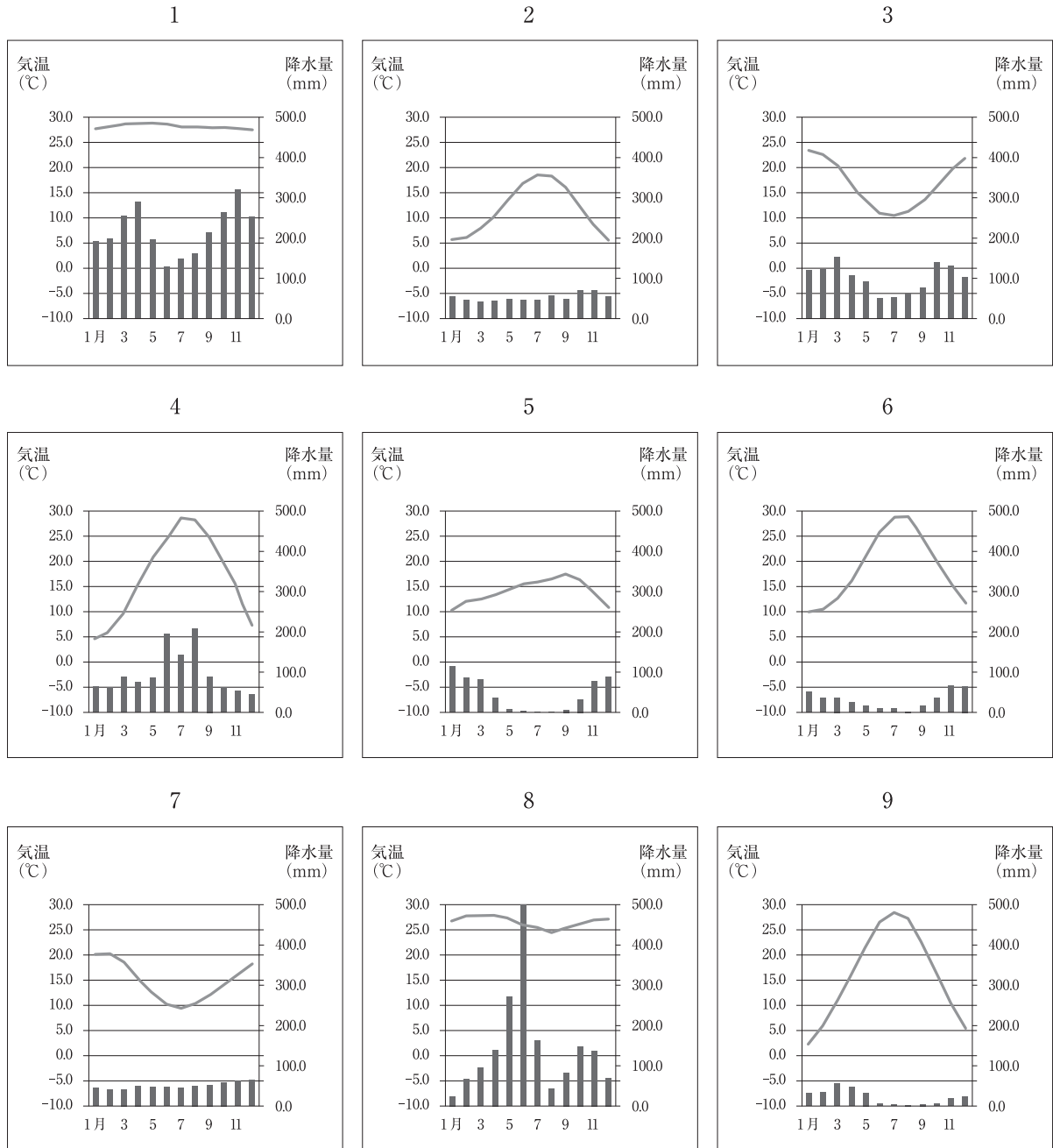


問1 略地図Aに示すPの緯線と同じ緯度の緯線を、略地図B～Hの㊶～㊸から一つ選び、記号で答えよ。

問2 慶太郎さんの住む北九州市が12月24日の午前7時のとき、略地図Bの国の首都(東経150度)は、何月何日の何時か答えよ。ただし、時刻には午前か午後を記入すること。

問3 次の資料Iの雨温図の1～9は、略地図の㊶～㊿のいずれかの都市の雨温図である。㊿にあてはまるものを、次の1～9から一つ選び、番号で答えよ。

〈資料I〉



問4 次の資料Ⅱをみて、①、②に答えよ。

〈資料Ⅱ〉

項目 国	輸出入額 (百万ドル) 2020年 上段(輸出) 下段(輸入)	輸出上位3品目と 輸出総額に 占める割合(%) 2021年	R (千t) 2021年	S (千t) 2022年	T (千t) 2022年	輸出相手国上位3ヶ国 2021年			日本への 輸出額 第1位の 品目
						第1位	第2位	第3位	
U	324477 236593	原油(21.5) 石油製品(13.5) 天然ガス(7.6)	66700	4992	104234	中国	オランダ	イギリス	液化 天然ガス
V	2590646 2055612	機械類(43.1) 衣類(5.2) 繊維と織物(4.3)	246000	13179	137720	アメリカ	(香港)	日本	電気機器
W	389373 252004	原油(31.4) 石油製品(14.2) 機械類(13.5)	...	...	...	スイス	サウジ アラビア	インド	原油
X	324205 485927	石油製品(13.7) 機械類(11.4) ダイヤモンド(6.3)	169000	5539	107742	アメリカ	アラブ 首長国	中国	有機化合物
Y	250411 202913	鉄鉱石(33.9) 石炭(13.6) 液化天然ガス(10.9)	565032	165	36237	中国	日本	韓国	石炭
Z	282529 262673	機械類(46.0) 衣類(10.0) 履物(6.1)	1940	3590	...	アメリカ	中国	日本	電気機器

「・・・」は、出荷量が少ないため、データがないことを示す。太字は世界第5位まで。「世界国勢図会 2020 / 2021」, 「2023データブック」より作成

① 資料ⅡのU～Zは、略地図の㉠～㉦の各国のいずれかを示している。U～Zにあてはまる国を正しく組み合わせたものを、次の1～6から一つ選び、番号で答えよ。

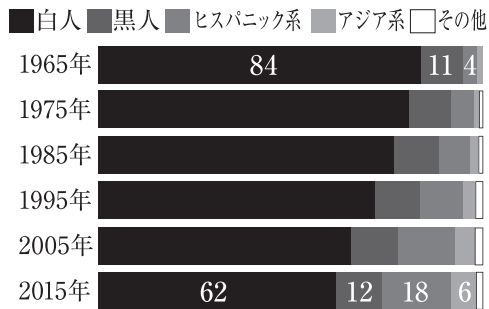
- 1 U-㉠ V-㉡ W-㉢ X-㉣ Y-㉤ Z-㉦      2 U-㉠ V-㉢ W-㉠ X-㉢ Y-㉡ Z-㉣  
 3 U-㉢ V-㉠ W-㉣ X-㉠ Y-㉢ Z-㉡      4 U-㉡ V-㉠ W-㉢ X-㉣ Y-㉠ Z-㉢  
 5 U-㉢ V-㉣ W-㉠ X-㉡ Y-㉠ Z-㉢      6 U-㉣ V-㉠ W-㉠ X-㉢ Y-㉡ Z-㉢

② 資料ⅡのR～Tは、小麦生産量、漁業の漁獲量、鉄鉱石生産量のいずれかを示している。小麦生産量を示すものを、R～Tから一つ選び、記号で答えよ。

問5 次のノートは、慶太郎さんが日本との貿易のつながりが深い④の国について、まとめたものである。資料Ⅲ～Ⅵを参考に、①( a )にあてはまる語句を答えよ。②( b )にあてはまる語句を答えよ。③〔 c 〕にあてはまる内容を、「大型機械」と「生産性」の語句を使って答えよ。

〈ノート〉

〈資料Ⅲ〉 Q国の人種別人口構成比の推移



〔米ピュー・リサーチ・センターより作成〕

〈資料Ⅳ〉



〔L'espace mondial(2008)より作成〕

〈資料Ⅴ〉



〈資料Ⅵ〉

	日本	Q国
農家個数(2016年)	132万戸	203万戸
農地面積(2017年)	444万ha 2.9ha(一戸当たり)	3億6826万ha 180ha(一戸当たり)
平均農業所得(2016年)	521万円(一戸当たり, 農業位階の収入を含む)	1309円(一戸当たり, 農業位階の収入を含む)
農業生産額(2016年)	9兆2025億円	39兆6714億円
農産物輸出額(2017年)	4966億円	15兆5966億円

【考察】

Q国は歴史的に多くの移民を受け入れて成長し、民族の多様性と革新力が特徴である。近年は( a )と呼ばれるスペイン語を話すメキシコや中央アメリカ、カリブ海の島々などからの移民とその子孫が増加した。19世紀から20世紀にかけて工業化が進み、鉄鋼や自動車産業で世界をリードし、現在はシリコンヴァレーを中心に( b )が発展し、経済を支えている。農業では小麦やトウモロコシ、大豆などを、〔 c 〕、さかんに輸出をしている。貿易は中国やカナダ、メキシコなどと密接な関係を持ち、輸出入の規模が大きい一方で、貿易赤字や移民政策、貧富の格差、気候変動などの課題にも直面している。

- 4 慶子さんのクラスでは職場体験の内容について、グループごとにまとめ、クラスで発表することになった。下の文章は、慶子さんたちのグループが発表しようとしている内容の一部である。各問に答えよ。

1 職場体験先

- ・①果樹栽培を営む農家で職場体験を行った。
- ・体験先の農家は、かつては②米作りを行っていたが、転作を行った。

2 体験した仕事の内容

- ・栽培している果物の手入れや収穫の作業を行った。
- ・収穫した、③新鮮な果物の一部を直売所へ出荷し、販売した。

3 インタビューをしてわかったこと

- ・安定した収入を得るために、さまざまな果物を並行して栽培している。
- ・農作業の一部は、④先端技術を活用する「スマート農業」を導入している。

4 感じたことや学んだこと

- ・職場体験の初日は、栽培している果物の手入れや収穫の作業が大変だったが、最終日には、働くことにやりがいを感じる事ができた。
- ・農作業や直売所での果物の販売を通して、責任をもって働くことの大切さを学ぶことができた。

- 問1 下線部①に関して、略地図中の■は、慶子さんの職場体験先の農家が栽培している、ある果物の2022年の生産量の上位5県を表したものである。後の□内は、第1位の県における、この果物の栽培について説明したものの一部である。ある果物とは何か、後の1～4から一つ選び、番号で答えよ。

〈略地図〉



冬期はシベリア高気圧が発達し、北西の季節風が山を越えて吹き下りるため、冬から春にかけての日照時間が豊富である。内陸部を中心に放射冷却現象が強まり、昼夜の寒暖差が大きくなって、この果物の甘さを引き出す。日光や那須連山を水源とする水と、平坦で肥沃な土壤に恵まれている。

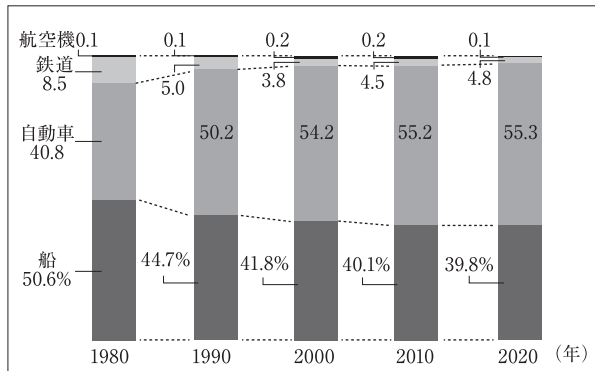
- 1 さくらんぼ    2 みかん    3 いちご    4 もも

- 問2 下線部②に関して、戦後の日本の稲作の変化についての記述として、適当でないものを、次の1～4から一つ選び、番号で答えよ。

- 1 米が過剰になるのを防ぐため、減反政策が実施された。
- 2 食生活の洋風化により、国民一人あたりの米の消費量が減少した。
- 3 田植え機やコンバインの導入により機械化が進んだ。
- 4 専業農家の割合が増加し、農家の高齢化が解消された。

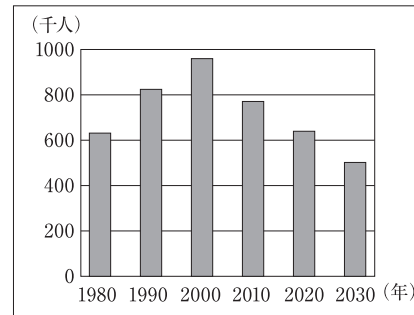
問3 下線部③に関して、日本では高速道路の整備や保冷トラックの普及などにより、生産された果物を生産地から遠く離れた市場に、鮮度を保ったまま出荷できるようになった。一方、政府では「モーダルシフト」の取り組みを推進している。「モーダルシフト」とは、主にトラックなどの自動車で行われている貨物輸送を、鉄道や船の利用による貨物輸送へ転換することをいう。資料Iは日本国内の貨物輸送における輸送手段別の割合の推移を表したものであり、資料IIはトラックドライバー数の推移を表したものである。

〈資料I〉



(「数字でみる日本の100年」改訂第7版ほかより作成)

〈資料II〉



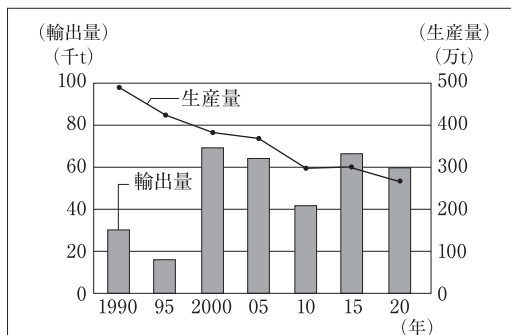
(注)2020年・2030年は推計である。

(経済産業省「令和4年度産業経済研究委託事業調査報告書」より作成)

- ① 日本国内の貨物輸送における、輸送手段別の割合の推移とトラックドライバー数の推移について、資料I・IIから読み取れることを50字以内で答えよ。
- ② ①の解答をふまえて、「モーダルシフト」の取り組みを推進している目的を、「輸送手段の組み合わせ」という語句を用いて50字以内で答えよ。

問4 下線部④に関して、慶子さんは、職場体験先の農家からロボットや人工知能(AI)などの先端技術を活用する「スマート農業」についての説明を聞き、この農業に期待されることについて発表するため、資料IIIと資料IVを用意した。資料IIIは、1990年から2020年までの日本における果物の生産量と輸出量の推移を表し、資料IVは、職場体験先の農家で導入している先端技術の一部である。後の□内は、慶子さんが、資料III・IVから読み取れることをもとに、「スマート農業」に期待されることについて考え、発表のためにまとめたものである。①( a )にあてはまる語句を答えよ。②[ b ]にあてはまる内容を、「効率」という語句を使って答えよ。

〈資料III〉



(「数字でみる日本の100年」改訂第7版ほかより作成)

〈資料IV〉

【リモコン式自走草刈機】

人が作業しにくい場所や急傾斜のような危険な場所での除草作業も、リモコンを使った遠隔操作によって安全に作業できる草刈機。

【農業用スマートグラス】

画面に投影された果物などの生育状態を人工知能(AI)が分析し、短時間で収穫時期を判定して、適切な収穫作業を指示する眼鏡型の端末。

日本の果樹栽培は、生産量に占める輸出量の割合が( a )していることがわかる。今後、「スマート農業」の普及により、輸出に適した品質のよい果物を( b )できるようになることで、さらなる収益の拡大が期待される。

5 次の日本国憲法や資料をみて、各問に答えよ。

【日本国憲法】

第9条

- ① 日本国民は、正義と秩序を基調とするA.国際平和を誠実に希求し、国権の発動たる戦争と、武力による威嚇又は武力の行使は、国際紛争を解決する手段としては、永久にこれを放棄する。
- ② 前項の目的を達するため、陸海空軍その他の戦力は、これを保持しない。国の( a )は、これを認めない。

第11条 国民は、すべての基本的人権の享有を妨げられない。この憲法が国民に保障するB.基本的人権は、侵すことのできない永久の権利として、現在及び将来の国民に与えられる。

第25条 ① すべて国民は、( b )で文化的な最低限度の生活を営む権利を有する。

第69条 内閣は、衆議院で不信任の決議案を可決し、又は信任の決議案を否決したときは、( c )日以内に衆議院が解散されない限り、総辞職をしなければならない。

第92条 地方公共団体の組織及び運営に関する事項は、C.地方自治の本旨に基いて、法律でこれを定める。

第96条

- ① この憲法の改正は、各議院の総議員の3分の2以上の賛成で、国会が、これを発議し、国民に提案してその承認を経なければならない。この承認には、特別の国民投票又は国会の定めるD.選挙の際行われる投票において、その( d )の賛成を必要とする。

問1 ( a )( b )( c )( d )にあてはまる語句の組み合わせとして正しいものを、次の1～4から一つ選び、番号で答えよ。

- 1 a-交渉権 b-勤勉 c-40 d-3分の2  
2 a-交戦権 b-健康 c-40 d-過半数  
3 a-交戦権 b-勤勉 c-10 d-過半数  
4 a-交渉権 b-健康 c-10 d-3分の2

問2 下線部Aに関して、次の□内のX～Zのうち、正しいものはどれか。あてはまるものをすべて選び、その組み合わせとして正しいものを、後の1～7から一つ選び、番号で答えよ。

- X：自由貿易を拡大するための制度であるGATTは、ものの貿易、サービスの貿易、知的財産権などの分野で貿易のルールを強化して発展的に解消し、世界保健機関(WHO)として発足した。
- Y：核兵器禁止条約は核兵器の開発や使用、保有などを全面的に禁止する条約で、2017年に国連総会で採択されたが、核保有国および日本は不参加である。
- Z：アジア太平洋経済協力会議(APEC)は1989年成立。アジア・太平洋地域の貿易の自由化、経済協力などを行う。日本を含む21の国・地域が参加している。

- 1 X  
2 Y  
3 Z  
4 XとY  
5 XとZ  
6 YとZ  
7 XとYとZ

問3 下線部Bに関して、資料Iの会話文を読み、後の□内の〔 〕にあてはまる内容を答えよ。  
なお二つの〔 〕には同じ内容が入る。

〈資料I〉

【SNS についての A さんと B さんの会話】



Aさん：この間、一緒に公園で撮った写真、どうしてSNSに投稿したの？

Bさん：えっ、何がいけないの？私のスマホで撮った写真だから、私の勝手じゃない。

AさんがBさんに抗議している理由として、Aさんには自分の写真を勝手に公開されない権利であるプライバシーの権利があるため、〔 〕されるとその権利が侵害されるから。よって、Bさんは、写真を投稿する前にAさんの許可を取るべきであり、もし〔 〕した場合は、Aさんが削除を求めたら速やかに対応する必要がある。

問4 下線部Cに関して、次の□内のX・Yについて、その正誤の組み合わせとして正しいものを、後の1～4から一つ選び、番号で答えよ。

X：首長と地方議会議員は、どちらも住民の直接選挙で選ばれる。それを二元代表制というが、どちらか一方に権力が集中するのを防ぐため、国会と内閣の関係と同じようにお互いを抑制しあう、対等な立場にある。

Y：地方公共団体の財源不足を補う一つの方法として認められた制度で、自分の希望する地方公共団体に寄付した場合、住民税額から一定額が免除される制度を地方創生納税という。

- 1 X-正 Y-正
- 2 X-正 Y-誤
- 3 X-誤 Y-正
- 4 X-誤 Y-誤

問5 下線部Dに関して、次の□内は、選挙制度のしくみの一部について述べたものである。  
〔 〕にあてはまる内容を答えよ。

小選挙区制は、1選挙区から1人の代表を選出する選挙制度である。最高得票者1名のみが選出されるが、各選挙区で1名しか当選しないため、有力な候補者を多くもつ大政党に有利になりやすい。また、1名しか当選しないため死票が多くなる。よって、国民の〔 〕。

## 令和の米騒動

全国で米不足深刻化

猛暑・災害不安・観光需要が重なり①価格高騰

全国各地で米の品薄状態が続いている。毎年の猛暑による不作に加え、南海トラフ地震の臨時情報発表による防災意識の高まり、さらには観光需要の急増が重なり、米の供給が逼迫ひびく。スーパーでは購入制限が導入され、価格は過去10年で最高水準に達している。農林水産省によると、2023年の猛暑と水不足により、主要産地の収穫量が前年比で15%以上減少。加えて、2024年夏に発表された南海トラフ地震の臨時情報を受け、家庭での備蓄需要が急増した。これにより流通在庫が一気に減少し、消費者の不安が連鎖的に買いだめを加速させた。

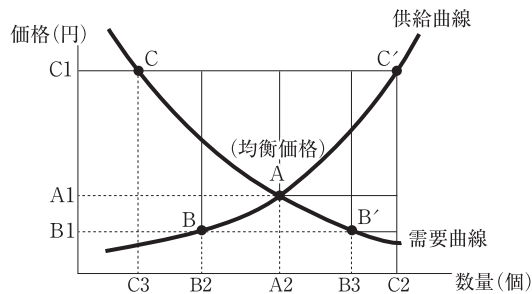
一方、コロナ禍からの回復に伴い、訪日外国人観光客が急増。外食産業や宿泊施設での米消費が拡大し、供給網にさらなる負荷がかかっている。福岡市内のスーパーでは「1世帯につき5kgまで」の購入制限が導入され、棚が空になる店舗も相次いだ。

②政府は備蓄米の放出を決定し、北海道などの大規模農地での増産支援策を打ち出したが、流通の安定には時間がかかる見通し。石破首相は「国民の食の安心を守るため、農業の構造改革とスマート農業の推進を加速する」と述べ、農政の転換を強調した。

今回の米騒動は、気候変動、災害リスク、農業政策の課題、そして国際的な需要変化が複雑に絡み合った、令和時代ならではの流通③市場の混乱といえる。政府と民間の連携による持続可能な食料供給体制の構築が、今後の課題として浮き彫りになっている。

問1 傍線部①に関して、需要が供給を上回って物価が上がり続けることを何というか。カタカナで答えよ。

問2 令和の米騒動の原因を需給曲線で表すと、需要曲線と供給曲線はそれぞれどのような変化を示すか。正しいものを、後の1~4から一つ選び、番号で答えよ。



- 1 訪日外国人観光客が急増して需要曲線は、右に移動。猛暑による不作から供給曲線は、左に移動。
- 2 訪日外国人観光客が急増して需要曲線は、左に移動。猛暑による不作から供給曲線は、右に移動。
- 3 南海トラフ地震の臨時情報による防災意識の高まりから需要曲線は左に移動。備蓄米の放出により供給曲線は、右に移動。
- 4 南海トラフ地震の臨時情報による防災意識の高まりから需要曲線は右に移動。備蓄米の放出により供給曲線は、左に移動。

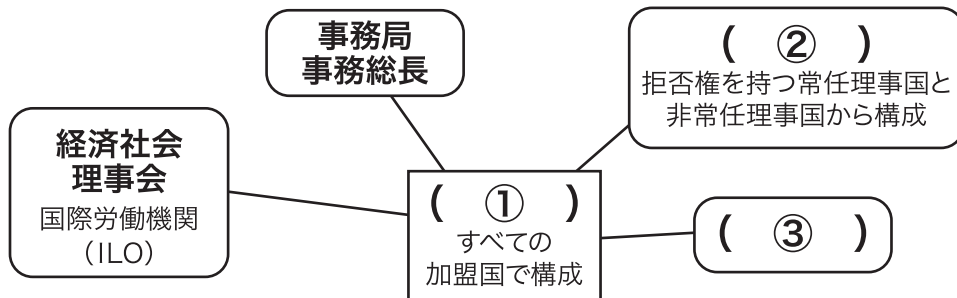
問3 傍線部②に関して、次の□内は、政府の財政政策について述べたものである。〔 〕にあてはまる内容を答えよ。

政府の財政政策には3つの役割がある。民間企業だけでは十分に供給できないものを政府が供給し、地域間の資源のかたよりをなくす資源の配分の役割。次に、景気循環の大きな変動に対して日本銀行と協力して、景気を調整して安定させる経済の安定化の役割。所得の高い人には多くの税負担をさせ、社会保障政策などで所得の格差を調整する〔 〕の役割である。

問4 傍線部③に関して、市場を安定させるために中央銀行がおこなう金融政策として正しいものを、次の1～4から一つ選び、番号で答えよ。

- 1 好況の場合、保有している国債を売って市場に流通している資金を回収する。
- 2 不況の場合、公共事業や減税をおこない、消費活動を活発化させる。
- 3 市場で流通している通貨量を調整し、景気をコントロールすることを財政投融资という。
- 4 政府がおこなう財政政策と中央銀行の金融政策は関わりがなく、おたがいに影響を与えない。

7 国際社会を支えるしくみについて、国際連合の組織図をみて、各問に答えよ。



問1 空欄( ① )～( ③ )にあてはまる機関の組み合わせとして正しいものを、次の1～6から一つ選び、番号で答えよ。

- 1 ①安全保障理事会 ②国際司法裁判所 ③総会
- 2 ①安全保障理事会 ②総会 ③国際司法裁判所
- 3 ①国際司法裁判所 ②安全保障理事会 ③総会
- 4 ①国際司法裁判所 ②総会 ③安全保障理事会
- 5 ①総会 ②安全保障理事会 ③国際司法裁判所
- 6 ①総会 ②国際司法裁判所 ③安全保障理事会

問2 国際連合の機関の名前について、アルファベットと日本語の組み合わせが正しいものを、1～5から一つ選び、番号で答えよ。

- 1 UNESCO: 国連児童基金
- 2 UNICEF: 国際原子力機関
- 3 UNHCR: 国連難民高等弁務官事務所
- 4 IAEA: 国際通貨基金
- 5 IMF: 国連教育科学文化機関