

# 慶成高等学校

## 令和6年度一般入学試験問題

# 社 会

### 注意

- 1 試験開始の合図があるまで、この問題冊子を開かないでください。
- 2 問題は、1ページから18ページまであります。
- 3 解答はすべて解答用紙の所定の欄に記入してください。
- 4 解答用紙の※印の欄には、何も記入しないでください。
- 5 試験時間は50分間です。
- 6 試験終了の合図で筆記用具を置き、解答用紙を裏返しにして、机の上に置いてください。
- 7 解答用紙のみ提出し、問題冊子は持ち帰ってください。

1

慶子さんは、わが国の各時代の特色についてのできごとをノートにまとめた。ノートをみて、各問に答えよ。

〈ノート〉

〈表〉

時代	特色
古代	○①鎮護国家の思想が広まる。 ○ア藤原道長が摂政となる。 ○〔 あ 〕
中世	○イ北条時宗が執権となる。 ○【 X 】 ○〔 い 〕
近世	○②織田信長が楽市・楽座令を出す。 ○ウ田沼意次が老中となる。 ○〔 う 〕
近代	○③アヘン戦争がおこる。 ○エ井伊直弼が大老となる。 ○〔 え 〕

〈資料I〉

楽市・楽座令

- 一. ここ安土は、楽市として仰せつかっているので、座の特権・諸税・労役を免除する。
- 一. 京都へ上り下りする商人は、安土に必ず宿泊すること。
- 一. 他国から安土に来て住みついた者は、前から住んでいた者と同様にあつかう。


(一部要約)

〈資料II〉



襲いかかる倭寇と防戦する明の兵士

〈資料III〉



日本船が持参した勘合の本字勘合

問1 次の□内は、表の下線部①に関連したものを説明したものである。最も関係するものを、後の1～4から一つ選び、番号で答えよ。

布教のかたわら、諸国をまわって橋や用水路などをつくり、政府の要請で大仏の造立にも積極的に協力した。

- 1 鑑真      2 最澄      3 一遍      4 行基

問2 次の□内は、表の下線部②について説明したものである。資料Iを参考に、〔                      〕にあてはまる内容を「座」の語句を使って書け。

だれでも自由に商売ができるようにするため、安土城下では、新興の商工業者を集めて市場の税を免除し、〔                      〕。

問3 表の下線部③について、次の1～4はその前後に起きた事柄である。年代の古い順に並べよ。

- 1 日米和親条約が結ばれた。
- 2 フランス革命がおこる。
- 3 アメリカで南北戦争がおこる。
- 4 廃藩置県をおこなう。

問4 次の□内は、表の下線部ア～エのいずれかのできごとと関係があるが、最も関係するものを、ア～エから一つ選び、記号で答えよ。

商工業者に株仲間をつくらせ、営業を独占する特権をあたえる代わりに、運上金や冥加金などの営業税を納めさせた。

問5 次の□内は、表の【 X 】にあてはまる内容を、資料ⅡとⅢを参考にまとめたものである。( a )にあてはまる人物を漢字で書け。また、〔 b 〕にあてはまる内容を「倭寇」の語句を使って書け。

( a )は、貿易の利益を幕府の財源にしようと考え、「日本国王臣源」と名のつて臣下としての立場をとり、1404年、明との貿易を始めた。この貿易は、正式な貿易船と〔 b 〕、勘合という合い札(証明書)が用いられたことから勘合貿易ともよばれる。

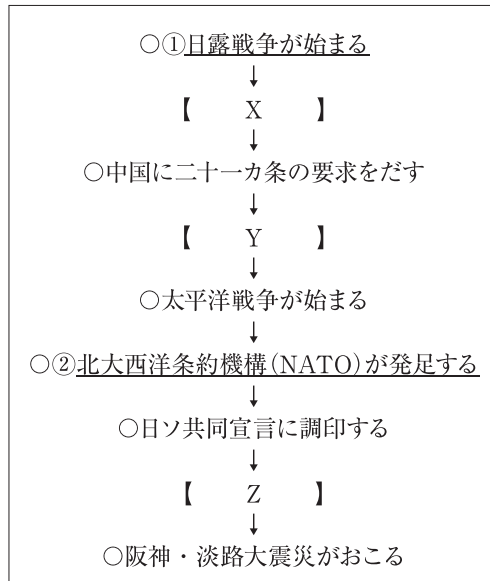
問6 表の〔 あ 〕～〔 え 〕には、次の1～4のできごとがあてはまる。〔 あ 〕～〔 え 〕にあてはまるものを、次の1～4からそれぞれ一つずつ選び、番号で答えよ。

- 1 土を深く耕すために備中ぐわ、脱穀用として千歯こき、もみの選別のために千石どおしや唐みがつくられ、農作業の能率を飛躍的に高め、生産量の向上に大きな役割をはたした。
- 2 稲の品種改良や草木灰が肥料として使われて生産量が増え、近畿地方を中心に水田の裏作に麦をつくる二毛作も始まった。
- 3 東京や横浜などでは、れんが造りの洋館が建てられ、ガス灯ももった。洋服を着る人が現れ、人力車や鉄道馬車が走った。
- 4 重い税や苦しい労役からのがれるために、戸籍の性別や年齢をいつわったり、口分田を捨てて逃亡して貴族や寺社の私有民となったり、勝手に僧となって税をまぬがれる者もいた。

2 慶太郎さんは、近代以降の特色をノートにまとめた。ノートをみて、各問に答えよ。

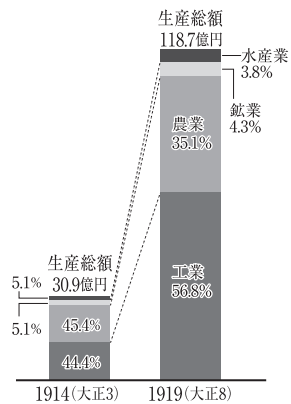
〈ノート〉

〈略年表〉



〈資料I〉

生産総額と産業別生産額の割合



〈日本資本主義発達史年表より作成〉

〈資料II〉

急に金持ちになり、紙幣を燃やして明かりの代わりにするのを風刺している絵



〈資料III〉

日露戦争当時の東アジア情勢



〈資料IV〉

日比谷焼き討ち事件



問1 次の□内は、略年表中の【 X 】の期間にあてはまる内容として、資料Iと資料IIを参考に調べまとめたものである。〔 a 〕に工業生産額と農業生産額の比較の内容を、( b )にあてはまる語句を書け。

第一次世界大戦が始まると欧米諸国の輸出がとだえたため、日本は連合軍に軍需品を供給し、かつてない好景気をむかえ〔 a 〕、輸出超過となった。大戦景気により、とくに海運業・造船業にたずさわる人の中で、急に金持ちとなった人々は( b )とよばれた。

問2 次の1～4は、略年表中の【 Y 】の期間のできごとである。年代の古い順に並べよ。

- 1 五・一五事件がおこる。
- 2 日中戦争が始まる。
- 3 シベリア出兵をおこなう。
- 4 満州事変がおこる。

問3 略年表中の【 Z 】の期間にあてはまらない内容として最も適切なものを、次の1～4から一つ選び、番号で答えよ。

- 1 日韓基本条約を結ぶ。
- 2 日中平和友好条約を結ぶ。
- 3 サンフランシスコ平和条約に調印する。
- 4 沖縄が日本に復帰する。

問4 次の□内は、略年表中の下線部①について、資料IIIと資料IVを参考に調べまとめたものである。

( a ) ( b )にあてはまるものとして正しい組み合わせを、後の1～4から一つ選び、番号で答えよ。また( c )にあてはまる語句を書き、〔 d 〕にあてはまる内容を「賠償金」の語句を使って書け。

ロシアの南下、日本の大陸進出という2つの政策が( a )をめぐって衝突し、対立がより深まっていった。新聞・雑誌などは( b )を展開し、三国干渉の影響もあり( b )が高まるなか日露戦争が始まった。大規模な戦争となり、両国とも多数の死傷者を出すなか、日本海の日露海戦で日本軍が勝利するなど、戦争は日本側に優位に推移した。しかし、戦争が長引くと日本は資金が続かず、ロシアでも皇帝の専制政治に反対する革命運動が起こり、両国とも戦争を続けることが難しくなり、中国進出をはかろうとするアメリカのなかだちで講和会議が開かれ、( c )条約が結ばれた。条約では韓国における日本の優越権が認められたものの、〔 d 〕、日比谷焼き討ち事件がおこった。

- 1 a-満州・韓国 b-非戦論
- 2 a-台湾・旅順 b-非戦論
- 3 a-満州・韓国 b-開戦論
- 4 a-台湾・旅順 b-開戦論

問5 略年表中の下線部②について、次のX・Yの文を読み、その正誤の組み合わせとして正しいものを、後の1～4から一つ選び、番号で答えよ。

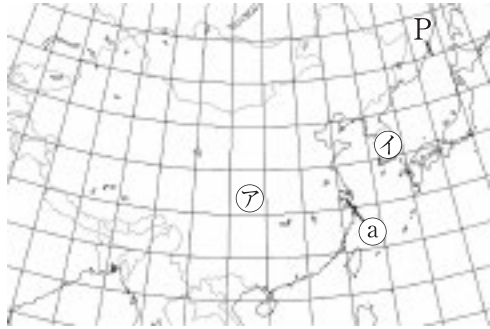
X: 北大西洋条約機構(NATO)は軍事同盟で、戦後、資本主義国であるアメリカが、西ヨーロッパ諸国に多額の資金援助を行い復興を助け、またソ連の勢力をおさえるために結ばれた。  
Y: 北大西洋条約機構(NATO)に対抗して、社会主義国のソ連は、東ヨーロッパ諸国とワルシャワ条約機構を成立させた。

- 1 X-正 Y-正
- 2 X-正 Y-誤
- 3 X-誤 Y-正
- 4 X-誤 Y-誤

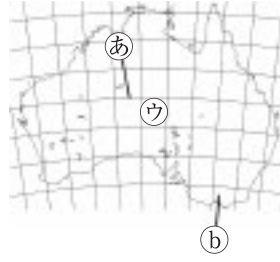
**3** 慶太郎さんは、世界の国の特色などについて調べるため、略地図を作成し、資料を集めた。略地図と資料をみて、各問に答えよ。

〈略地図〉

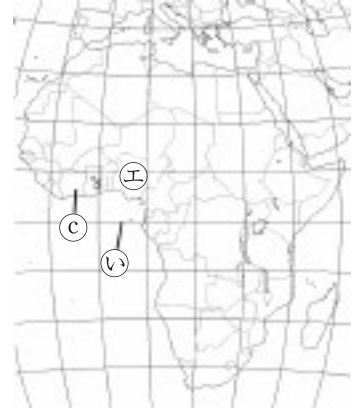
A



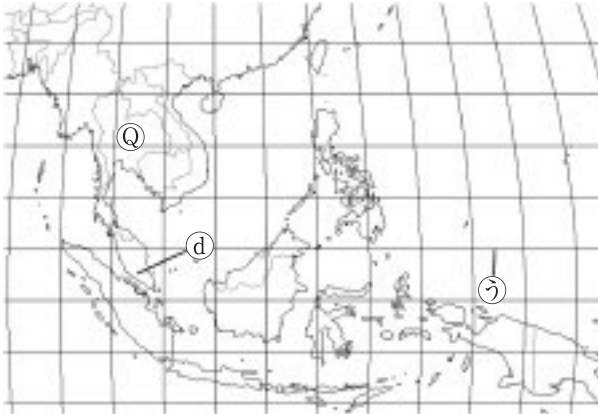
B



C



D



E



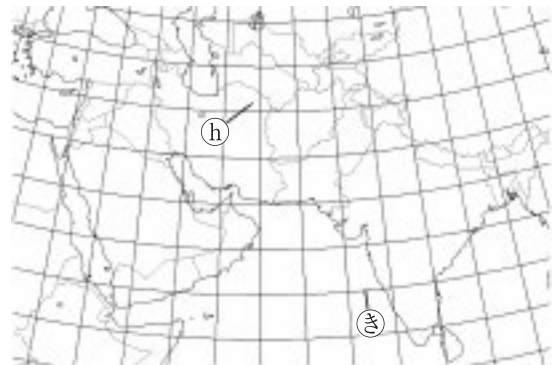
F



G



H

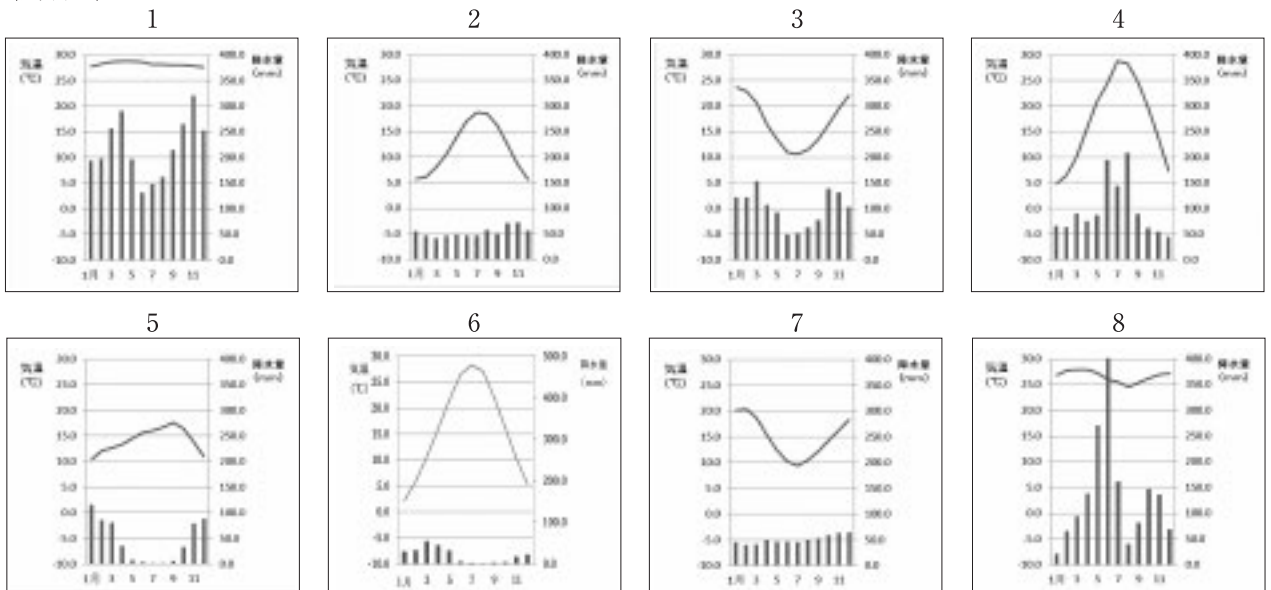


問1 略地図Aに示すPの緯線と同じ緯度の緯線を、略地図BCDEFGHの㉔～㉖から一つ選び、記号で答えよ。

問2 慶太郎さんは、6月5日午前7時に日本からニューヨーク(西経75度)へ旅行に行きます。ニューヨークへの飛行時間は13時間です。慶太郎さんがニューヨークに着いた時、現地は何月何日の何時か答えよ。ただし、時刻には午前か午後を記入すること。

問3 次の資料Iの雨温図の1～8は、略地図の㉔～㉖のいずれかの都市の雨温図である。㉖にあてはまるものを、次の1～8から一つ選び、番号で答えよ。

〈資料I〉



問4 次の資料Ⅱをみて、①、②に答えよ。

〈資料Ⅱ〉

項目 国	輸出入額 (百万ドル) 2018年	輸出上位3品目と 輸出総額に占める 割合(%) 2018年	R (万トン) 2015年	S (万トン) 2017年	T (万トン) 2017年	輸出相手国上位3ヶ国 2018年			日本への 輸出額 第1位の 品目
						第1位	第2位	第3位	
U	625437 513571	機械類(43.6) 自動車(10.0) 石油製品(7.4)	...	...	...	中国	アメリカ 合衆国	ベトナム	化学製品
V	62396 43007	原油(82.3) 液化天然ガス(9.9) 船舶(2.4)	...	...	...	インド	オランダ	スペイン	液化 天然ガス
W	257119 227003	石炭(19.7) 鉄鉱石(18.7) 金〔非貨幣用〕(5.7)	<b>48600</b>	<b>205</b>	3182	中国	日本	韓国	石炭
X	2280358 1842334	機械類(43.4) 衣類(7.0) 繊維と織物(4.8)	<b>23200</b>	<b>690</b>	<b>13433</b>	アメリカ 合衆国	(香港)	日本	電気機器
Y	534935 490224	機械類(25.9) 自動車(7.9) 医薬品(5.4)	...	...	697	ドイツ	フランス	アメリカ 合衆国	喫煙用 たばこ
Z	1664085 2614327	機械類(24.1) 自動車(7.6) 石油製品(5.7)	2880	<b>1191</b>	<b>4737</b>	カナダ	メキシコ	中国	一般機械

〔「・・・」は、出荷量が少ないため、データがないことを示す。太字は世界第5位まで。〔世界国勢図会 2020 / 2021〕、「2020データブック」より作成〕

① 資料ⅡのU～Zは、略地図の㉠～㉣の各国のいずれかを示している。U～Zにあてはまる国を正しく組み合わせたものを、次の1～6から一つ選び、番号で答えよ。

- 1 U-㉠ V-㉣ W-㉡ X-㉢ Y-㉠ Z-㉣      2 U-㉣ V-㉠ W-㉢ X-㉣ Y-㉡ Z-㉠  
 3 U-㉣ V-㉡ W-㉠ X-㉠ Y-㉣ Z-㉢      4 U-㉢ V-㉣ W-㉣ X-㉠ Y-㉠ Z-㉡  
 5 U-㉠ V-㉢ W-㉣ X-㉡ Y-㉣ Z-㉠      6 U-㉡ V-㉠ W-㉠ X-㉣ Y-㉢ Z-㉣

② 資料ⅡのR～Tは、牛肉生産、小麦生産、鉄鉱石産出のいずれかを示している。小麦生産を示すものを、R～Tから一つ選び、記号で答えよ。



問5 次のノートは、慶太郎さんが日本との貿易のつながりが深い④の国について、まとめたものである。資料Ⅲと資料Ⅳを参考に、( a )にあてはまる語句を書け。また、[ b ]にあてはまる内容を「賃金」の語句を使って書き、[ c ]にあてはまる内容を書け。

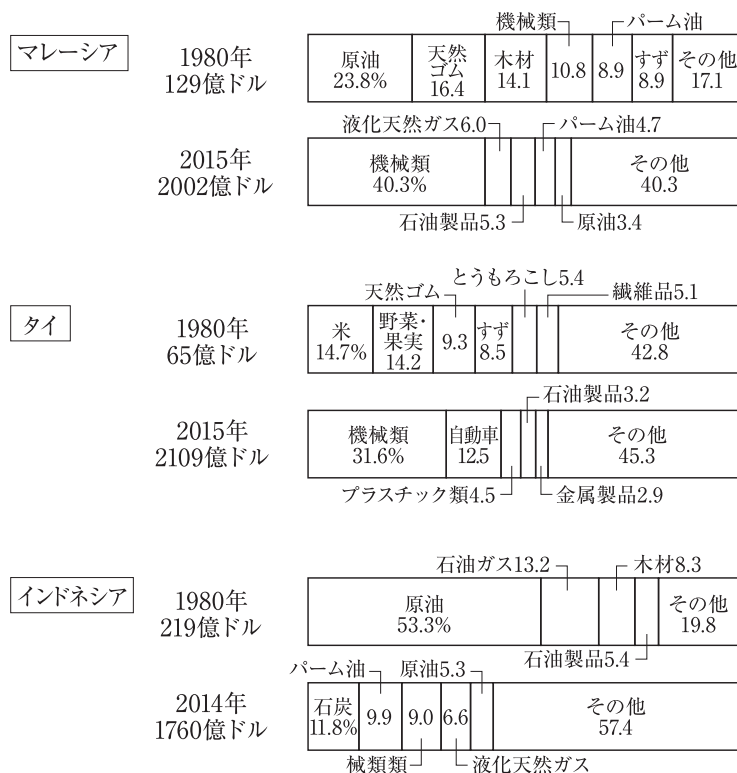
〈ノート〉

〈資料Ⅲ〉

	賃金(月)
日本	29万400円
タイ	3万871円

〈資料Ⅳ〉

おもな国の輸出品の変化



〔出所：UN Comtrade, ほか〕

【考えたこと】

1967年に結成された( a )は、④の国も含む東南アジアの政治や経済の協力を深めるために組織され、貿易や人の交流をさらに活発にして、結びつきを強めている。

東南アジア各国で工業化が進んだ背景には、日本などの外国企業の進出があり、その理由の一つは、[ b ]である。それにより、輸出品も変化し、1980年に比べて鉱産資源や農産物から [ c ]の割合が増えている。

課題としては、工業化による経済発展で、都市部を中心に人々の生活水準は向上したが、農村部では人々の収入が増えず、農村から都市への人口流失が問題となっている。

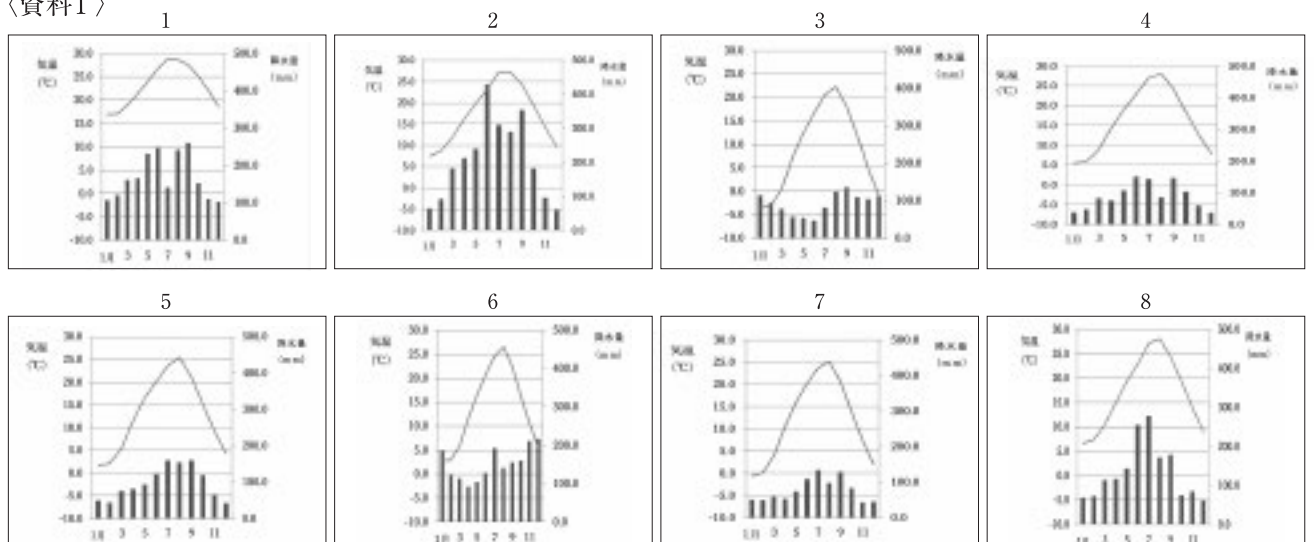
4 慶子さんは、日本の特色などについて調べるため、略地図を作成し、資料を集めた。略地図と資料をみて、各問に答えよ。

〈略地図〉



問1 次の資料Iの雨温図の1～8は、略地図の①～⑧のいずれかの都市の雨温図である。⑤にあてはまるものを、次の1～8から一つ選び、番号で答えよ。

〈資料I〉



問2 次の□内は、略地図のXの地域についてまとめたものである。〔 a 〕には「雪解け水」、〔 b 〕には「副業」の語句を使ってあてはまる内容を書け。

雪が多い北陸の農業の特色は、春になると〔 a 〕ので、稲作の割合が高く、工夫を重ねた結果、今では魚沼産コシヒカリのように銘柄米として高い価格で販売されているものもある。

また、冬には農業ができないため、〔 b 〕、福井県の鯖江市では明治時代に始まった眼鏡フレームづくりが、新しい素材や繊細な加工技術の開発により、国内生産の9割をしめるまでに成長している。

問3 次の資料Ⅱをみて、①、②に答えよ。

〈資料Ⅱ〉

項目 都道府県	作物の収穫量			事業所数 2016年	漁業生産量 (万t) 2015年	工業生産出荷額 2014年			おもな 伝統工芸品 ・特産物
	米(水稲) (千t) 2019年	はくさい (千t) 2017年	いちご (千t) 2017年	卸売業		金属工業 (億円)	化学工業 (億円)	繊維工業 (億円)	
A	154200	<b>23100</b>	3110	14486	0.0004	16560	24064	952	春日部たんす
B	160800	18200	<b>12500</b>	4472	7.0	2414	3500	278	い草
C	344200	<b>227700</b>	9240	6594	<b>22.8</b>	<b>23639</b>	24334	574	結城つむぎ
D	158900	6640	<b>16700</b>	<b>17506</b>	7.8	15159	10970	479	久留米がすり
E	24300	・・・	・・・	<b>36071</b>	1.7	<b>36979</b>	<b>45321</b>	<b>3227</b>	堺打刃物
F	<b>588100</b>	<b>25700</b>	1850	15311	<b>104.4</b>	8505	19211	285	アットウシ織

〔・・・〕は、出荷量が少ないため、調査されてないことを示す。太字は全国第5位まで。「データでみる県勢2021」、「農林水産省統計情報」、「2020データブック」より作成]

- 資料ⅡのA～Fには、略地図の㉗～㉛の県のいずれかがあてはまる。Fにあてはまる県の県庁所在地を答えよ。(漢字表記の場合は漢字で答えよ)
- 下のノートは、慶子さんがDやEなどにあてはまる都道府県にみられた事業所数に着目し、まとめたものである。〔 a 〕には資料Ⅲ、Ⅳを参考に、「場所と営業時間と品揃え」を考察して書け。また( b )に、あてはまる語句を書け。

〈ノート〉

〈資料Ⅲ〉 小売店販売額推移

〈資料Ⅳ〉 ネットショッピング利用世帯割合の推移

**【考えたこと】**

コンビニエンスストアの伸びは、〔 a 〕という理由で増加している。また、百貨店の販売額が減少し、地方での大型スーパーの販売額が増加しているのは、自動車で買い物する人が増え、郊外に広い駐車場を備えたショッピングセンターに客を奪われたからという理由もある。

また( b )という情報通信技術の発達により、ネットショッピングの利用者も増えてきている。

問4 次の□内は、慶子さんの学校での会話の一部である。①、②、③に答えよ。

〈会話文〉

慶子さん : 質問ですが。最近、資料Vを車からみるがありました。

先生 : はい。これは、太陽光発電と風力発電です。石油や石炭にかわるエネルギーとして〔 a 〕利用できる再生可能エネルギーで、他にも地熱、バイオマス、バイオエタノールなどがあります。

慶子さん : そうなんですね。ただ、資料VIをみると確かに再生可能エネルギーの比率は年々高くなってきているみたいですが、( b )を排出しないメリットがあるのになぜ石油や石炭よりもまだ少ないのですか？

先生 : 理由は色々ありますが、その一つに〔 c 〕などの理由があります。

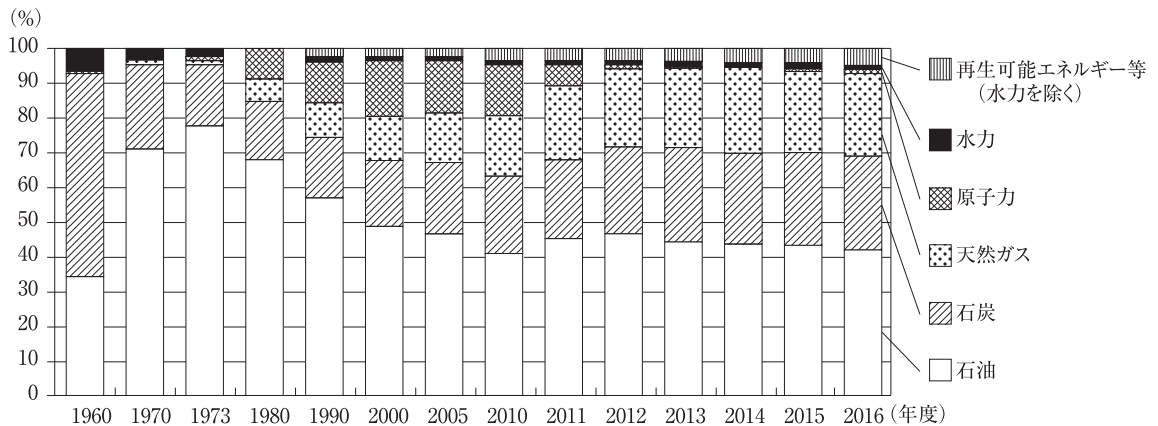
慶子さん : なるほどですね。地球環境のことを考えながら私たちに必要なエネルギーの問題がたくさんあるということを知り、もっとエネルギーのことについて深く学ぼうと思いました。

〈資料V〉



〈資料VI〉

一次エネルギー国内供給構成



〔経済産業省資源エネルギー庁「エネルギー白書」〕

- ① 会話文中の〔 a 〕にあてはまる内容を答えよ。
- ② 会話文中の( b )にあてはまる語句を漢字で答えよ。
- ③ 会話文中の〔 c 〕にあてはまる内容を、次の1～4から一つ選び、番号で答えよ。
- 1 日本に石油や石炭資源が豊富に存在する
  - 2 安全面での保障が他のエネルギー資源よりも低い
  - 3 発電コストはかからないが、場所の確保ができない
  - 4 自然条件に左右されやすく発電コストもかかる



5 次の日本国憲法や資料をみて、各問に答えよ。

【日本国憲法】

第9条

- ① 日本国民は、正義と秩序を基調とするA.国際平和を誠実に希求し、国権の発動たる戦争と、武力による威嚇又は武力の行使は、国際紛争を解決する手段としては、永久にこれを放棄する。
- ② 前項の目的を達するため、陸海空軍その他の戦力は、これを保持しない。国の( a )権は、これを認めない。

第11条

国民は、すべての基本的人権の享有を妨げられない。この憲法が国民に保障するB.基本的人権は、侵すことのできない永久の権利として、現在及び将来の国民に与えられる。

第25条

- ① すべて国民は、( b )で文化的な最低限度の生活を営む権利を有する。

第36条

公務員による拷問及び残虐なC.刑罰は、絶対にこれを禁ずる。

第45条

D.衆議院議員の任期は、( c )年とする。但し、衆議院解散の場合には、その期間満了前に終了する。

第96条

- ① この憲法の改正は、各議院の総議員の( d )以上の賛成で、国会が、これを発議し、国民に提案してその承認を経なければならない。この承認には、特別の国民投票又は国会の定める選挙の際行われる投票において、その過半数の賛成を必要とする。

問1 ( a )( b )( c )( d )にあてはまる語句の組み合わせとして正しいものを、次の1～4から一つ選び、番号で答えよ。

- 1 a-交戦 b-健康 c-4 d-3分の2  
2 a-防衛 b-安心 c-6 d-3分の2  
3 a-交戦 b-健康 c-6 d-過半数  
4 a-防衛 b-安心 c-4 d-過半数

問2 下線部Aに関連して、次の□内のX～Zのうち、正しいものはどれか。あてはまるものをすべて選び、その組み合わせとして正しいものを、後の1～7から一つ選び、番号で答えよ。

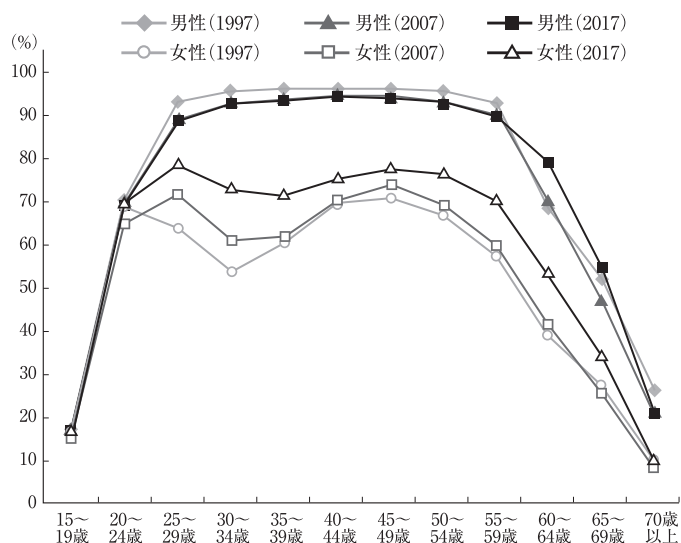
- X：領土の周辺12海里までの海を領海、領海の外側で海岸線から200海里までの範囲を排他的経済水域という。
- Y：国連の安全保障理事会で、拒否権が行使されたとしても、全加盟国構成され、すべての国が平等に一票をもつ総会での決議の方が有効である。
- Z：日本も国際平和協力法(PKO協力法)を制定し、カンボジアや東ティモールなど、海外への自衛隊の派遣を認めてきた。

- 1 X  
2 Y  
3 Z  
4 XとY  
5 XとZ  
6 YとZ  
7 XとYとZ

問3 後の□内は、下線部Bに関連して、資料Iと資料IIから読み取ったことをもとにまとめたものである。  
 [ a ]にあてはまる内容を「結婚や育児」、「子ども」の語句を使って書け。また、[ b ]にあてはまる内容を答えよ。

〈資料I〉

年齢別・男女別就業率の変化



〔総務省「労働力調査(基本集計・長期時系列データ)」〕

〈資料II〉

内閣府の助成制度に関するパンフレットの一部



資料Iを見て、労働力率が「M字カーブ」を描いているのは、働いていた女性のうち一定の割合の人が、[ a ]からであると考えられる。近年は働く女性が増えたことで、カーブが浅くなり、M字の谷にあたる期間も短くなったが、まだ、男性と女性の差があるので、資料IIのような内閣府の制度などにより、[ b ]が期待される。

問4 後の□内は、下線部Cに関連して作成した資料Ⅲについて、まとめた内容である。〔 a 〕にあてはまる内容を書け。また( b )にあてはまるものを、資料ⅢのA～カから一つ選び、記号で答えよ。

〈資料Ⅲ〉

刑罰の種類	内容
ア	生命を奪う罰
イ	無期と有期があり、有期は原則として1か月以上20年以下の間、刑事施設に収容され、労働する罰
ウ	無期と有期があり、有期は原則として1か月以上20年以下の間、刑事施設に収容される罰
エ	1万円以上の支払いをする罰
オ	原則として1日以上30日未満の間、刑事施設に収容される罰
カ	千円以上1万円未満の支払いをする罰

刑罰の種類のうち 有罪判決を受けても一定期間〔 a 〕、刑の言い渡しがなかったことになる制度のことを執行猶予という。また、懲役にあたるものは( b )である。

問5 次の□内のX・Yは、下線部Dに関連した文である。その正誤の組み合わせとして正しいものを、後の1～4から一つ選び、番号で答えよ。

X： 法律案の議決では、参議院が衆議院と異なる議決をした場合、衆議院で出席議員の3分の2以上の賛成で再可決した時は法律となる。

Y： 衆議院の解散後は、40日以内に衆議院議員総選挙が行われ、総選挙後30日以内に特別会が召集される。その際、内閣は総辞職し、新たな内閣総理大臣の指名が行われる。

- 1 X-正 Y-正
- 2 X-正 Y-誤
- 3 X-誤 Y-正
- 4 X-誤 Y-誤



6 慶子さんの学校での会話文を読み、後の問に答えよ。

〈会話文〉

慶子： ニュースで、A.株を買うとどうなるのかというのを観ました。  
 先生： 確かに国が「NISA(ニーサ)」という制度をつくり、投資を促進しようという取り組みをしています。  
 慶子： そうなんですね。調べてみます。もう一つニュースで、物価が上がっているのに、また税金が上がるかもしれないというのを観ました。  
 先生： 政府や日本銀行がB.景気の状況を見極めて、対策をしていくと思います。  
 慶子： C.社会保障関係の費用の問題があるみたいですし、どう対応していくのですかね。  
 先生： 難しい問題ですね。  
 慶子： ところで最近買い物していたら、リユース製品という表示がありました。  
 先生： それはD.循環型社会の形成のため、企業が取り組んでいるものですよ。企業のE.社会的責任も問われる中、努力しているのです。  
 慶子： そうだったのですね。かわいい商品がたくさんありました。これからはその背景も考えながら商品を購入したいと思います。  
 先生： それはよい心がけですね。

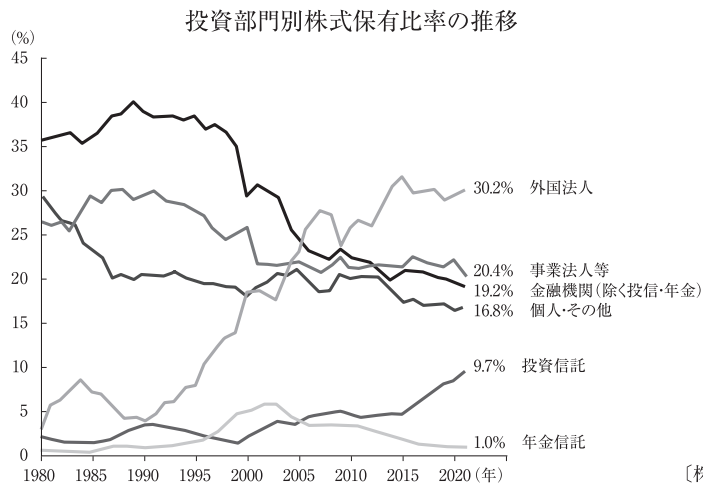
問1 次の□内は、下線部Aに関連して慶子さんが調べ、資料Iと資料IIから読み取りまとめた内容である。( a )～( c )にあてはまる語句を漢字で書け。また[ d ]にあてはまる内容を「利潤」、「配当」の語句を使って書け。また[ e ]にあてはまるものを、後の1～4から一つ選び、番号で答えよ。

株式会社は、資金を集めるために( a )を発行する。( a )を購入した個人や法人を( b )という。また( b )は( c )に出席し、経営方針などについて議決することができる。  
 資料Iのアやエの株価が上昇したのは、今後売上げが伸びたりして、企業の[ d ]ことが期待できると出資者が判断したのが要因だと考える。また資料IIでは1990年のバブル崩壊後、[ e ]ことがわかる。

〈資料I〉

企業名	新聞記事の見出し	株価
ア	サッカーワールドカップで日本代表活躍！選手のユニフォームメーカーの人気高まる！	上昇
イ	社長の収賄容疑で逮捕！企業のイメージが下がる！	下落
ウ	商品の欠損でリコールが相次ぐ！商品の売上げが下がる！	下落
エ	新しい技術開発が進む！商品が値下がりし売上げが上がる！	上昇

〈資料II〉



- 1 個人・その他の保有比率は増加傾向にあり、投資信託による保有比率が下がっている
- 2 外国法人の保有比率が低い傾向にあり、企業の株価の下落の要因である
- 3 事業法人の保有比率が外国法人よりも上回っており、企業の株価の上昇が期待される
- 4 金融機関の保有比率は低下傾向にあり、外国法人による保有比率が高まっている

問2 下線部Bに関連して、①、②に答えよ。

- ① 不景気の場合、政府が行う財政政策はどのようなものがあるか、次の語群を使用し、簡潔に答えよ。

【語群】税金 公共事業

- ② 日本銀行の金融政策について、次の□内の( a )と( b )にあてはまる語句の組み合わせとして適当なものを、後の1～4から一つ選び、番号で答えよ。

日本銀行は、( a )のとき、一般の銀行から国債などを買い、一般の銀行がもつ通貨量を( b )、景気を調整しようとする。

- 1 a-不景気 b-増やし    2 a-不景気 b-減らし  
 3 a-好景気 b-増やし    4 a-好景気 b-減らし

問3 次の□内のX・Yは、下線部Cに関連した文である。その正誤の組み合わせとして正しいものを、後の1～4から一つ選び、番号で答えよ。

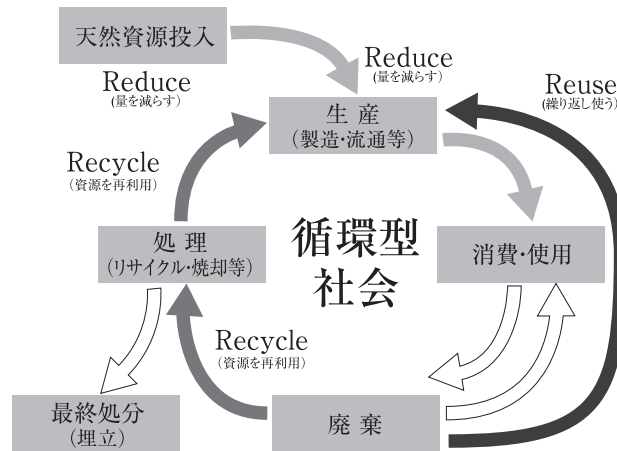
X: 年金保険は、現在働いている現役の世代の支払う保険料が主な財源となっており、現在の高齢者への給付がまかなわれている。少子高齢化になり、増大する高齢世代を支える財源の多くを減少する現役世代が負担することになる。

Y: 介護保険制度は、介護が必要になったときに備えて、あらかじめ保険料を支払い、必要となったときに介護サービスを受けることができる制度である。その費用は65歳以上が支払う介護保険料と、税金でまかなっている。

- 1 X-正 Y-正  
 2 X-正 Y-誤  
 3 X-誤 Y-正  
 4 X-誤 Y-誤

問4 後の□内は、下線部Dに関連して、資料Ⅲを参考に説明したものである。〔 〕にあてはまる内容を具体的な取り組み例を一つ挙げ答えよ。

〈資料Ⅲ〉



循環型社会とは、〔 〕、将来にわたって持続して使い続けていく社会のことである。

問5 下線部Eに関連して、社会的責任にかかわる文として適当でないものを、次の1～4から一つ選び、番号で答えよ。

- 1 企業の社会的責任(CSR)に積極的な企業に投資し、そうでない企業に投資しないことで、CSRを資金的に支援することを社会的責任投資(SRI)という。
- 2 現代の企業は、生産方法を選ぶ際に環境への影響は考える必要はなく、法令のみを守り、利益を追及することが企業の社会的責任(CSR)である。
- 3 金融機関は、多くの人や会社のお金を預かっているという責任を自覚し、適切な経営のもと、金融本来の役割を果たすという社会的責任がある。
- 4 消費者は最後の選択者であって、環境に配慮した製品を選択することは、消費者の権利でもあり、責任でもある。