

慶成高等学校

令和5年度一般入学試験問題

社 会

注意

- 1 試験開始の合図があるまで、この問題冊子を開かないでください。
- 2 問題は、1ページから18ページまであります。
- 3 解答はすべて解答用紙の所定の欄に記入してください。
- 4 解答用紙の※印の欄には、何も記入しないでください。
- 5 試験時間は50分間です。
- 6 試験終了の合図で筆記用具を置き、解答用紙を裏返しにして、机の上に置いてください。
- 7 解答用紙のみ提出し、問題冊子は持ち帰ってください。

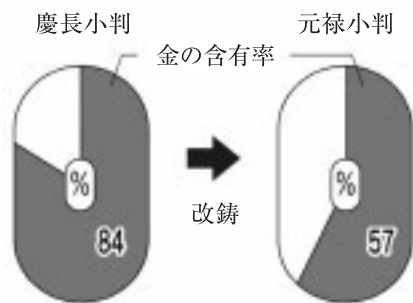
1 慶子さんは、わが国の各時代の特色についてのできごとをノートにまとめた。ノートをみて、各問に答えよ。

〈ノート〉

〈表〉

時代	特色
古代	○ア第1回の遣唐使を派遣する。 ○①藤原道長が摂政となる。
中世	○イ勘合貿易を始める。 ○②新仏教が広がりをもせた。
近世	○ウ朱印船貿易が盛んに行われる。 ○【 X 】
近代	○③イギリスと清との間で南京条約が結ばれる。 ○エ日清修好条規が結ばれる。

〈資料I〉



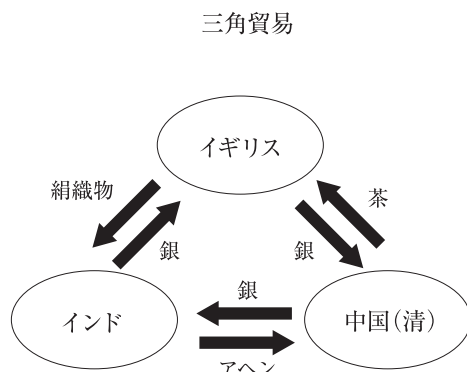
勘定吟味役の萩原重秀が貨幣の改鑄を上申した。

〈資料II〉



銅座・朝鮮人参座・真鍮座などが設けられた。

〈資料III〉



〈資料IV〉



問1 表の下線部①について、次の1～4はその前後に起きた事柄である。年代の古い順に並べよ。

- 1 平清盛が太政大臣となる。
- 2 壬申の乱がおこる。
- 3 白河上皇が院政を始める。
- 4 平将門の乱がおこる。

問2 次の□内は、表の下線部②の新仏教の一つを説明したものである。最も関係するものを、後の1～4から一つ選び、番号で答えよ。

念仏「南無阿弥陀仏」を唱え、阿弥陀仏にすがれば、極楽浄土に生まれかわる。

- 1 臨済宗 2 日蓮宗 3 真言宗 4 浄土真宗

問3 次の□内は、表の【 X 】にあてはまる内容を、資料IとIIを参考にまとめたものである。

{ a }に「質」と「数量」の語句を使って書け。また、{ b }に「幕府の収入」の語句を使って書け。

綱吉は深刻な財政難を克服するため、金貨・銀貨の{ a }、財政難を切り抜けようとしたが、物価が上がり民衆の生活が苦しくなった。田沼意次は、商工業者の同業組合である株仲間を認めて営業を独占させ、その代わりに{ b }。

問4 次の□内は、表の下線部ア～エのいずれかのできごとと関係があるが、最も関係するものを、ア～エから一つ選び、記号で答えよ。

東南アジアの各地に移住するものが増え、日本町が誕生した。

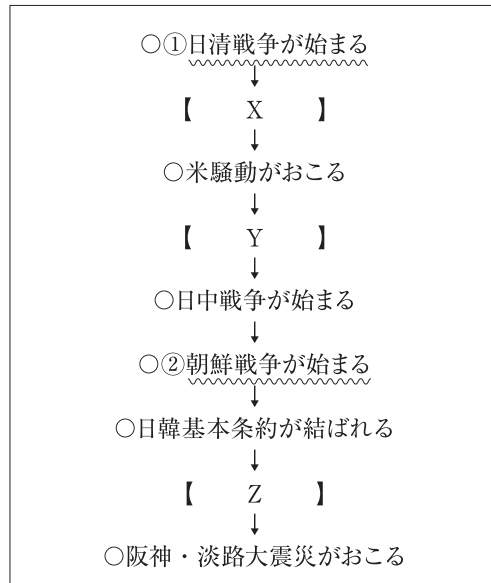
問5 次の□内は、表の下線部③の背景とその後の様子について、資料IIIと資料IVを参考にまとめたものである。(a)にあてはまる語句を書け。また、{ b }に「外国船」の語句を使って書け。

インドがイギリスの植民地になり、三角貿易により(a)の害に悩んだ清が(a)の輸入を禁止すると、イギリスは艦隊を派遣し広州や香港を占領した。この情勢をみて幕府は異国船打払令を改め、{ b }帰らせるという穏便な方針に転換した。

2 慶太郎さんは、近代以降の特色をノートにまとめた。ノートをみて、各問に答えよ。

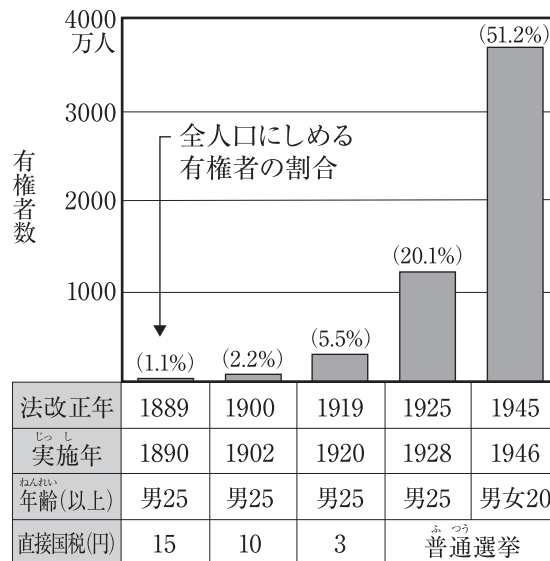
〈ノート〉

〈略年表〉




〈資料I〉

有権者数の増加

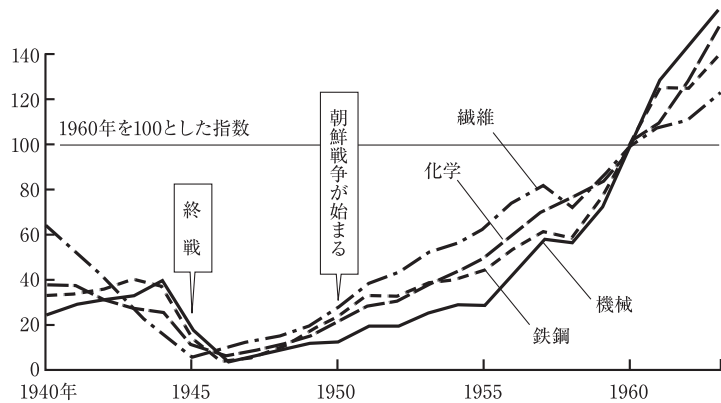


〈資料Ⅱ〉



〈資料Ⅲ〉

工業生産の回復



〔国勢社「日本の百年」〕

問1 次の1～4は、略年表中の【 X 】の期間のできごとである。年代の古い順に並べよ。

- 1 シベリア出兵が始まる。
- 2 日露戦争が始まる。
- 3 第一次世界大戦が始まる。
- 4 日英同盟を結ぶ。

問2 次の□内は、略年表中の【 Y 】の期間にあてはまる内容として、資料Iを読み取りまとめたものである。〔 a 〕に「納税額」の語句を使って書け。また、〔 b 〕に年齢と性別を明記し、適切な内容を書け。

1919年から1925年において有権者の割合が大きく増加したのは、選挙権の制限のうち、〔 a 〕、〔 b 〕に選挙権が与えられたから。

問3 略年表中の【 Z 】の期間にあてはまらない内容として最も適切なものを、次の1～4から一つ選び、番号で答えよ。

- 1 日中平和友好条約が結ばれた。
- 2 日ソ共同宣言に調印し、国際連合に加盟した。
- 3 国連平和維持活動(PKO)協力法が成立した。
- 4 沖縄が日本に復帰した。

問4 次の□内は、略年表中の波線①について、資料Ⅱを参考にまとめたものである。(a)(b)(c){ d }にあてはまるものとして正しい組み合わせを、後の1～6から一つ選び、番号で答えよ。

資料Ⅱは日清戦争前の国際情勢を表した風刺画であるが、日本と清が(a)半島をめぐる対立し、それを(b)が横取りしようとうかがっている様子である。戦争は近代的な装備を整えた日本の勝利に終わり、翌年(c)で講和会議が開かれ、遼東半島・台湾などを獲得し賠償金を支払わせた。しかし(b)は、日本が{ d }、ドイツ・フランスと結び、遼東半島を清に返還するように日本に強くせまり、この要求を受け入れた。これを三国干渉という。

- | | | | | |
|---|------|--------|---------|-----------------------|
| 1 | a-朝鮮 | b-ロシア | c-下関 | d-ヨーロッパに影響力を広げることを警戒し |
| 2 | a-山東 | b-ロシア | c-ポーツマス | d-大陸に影響力を広げることを警戒し |
| 3 | a-朝鮮 | b-アメリカ | c-下関 | d-ヨーロッパに影響力を広げることを警戒し |
| 4 | a-山東 | b-アメリカ | c-ポーツマス | d-ヨーロッパに影響力を広げることを警戒し |
| 5 | a-朝鮮 | b-ロシア | c-下関 | d-大陸に影響力を広げることを警戒し |
| 6 | a-山東 | b-アメリカ | c-ポーツマス | d-大陸に影響力を広げることを警戒し |

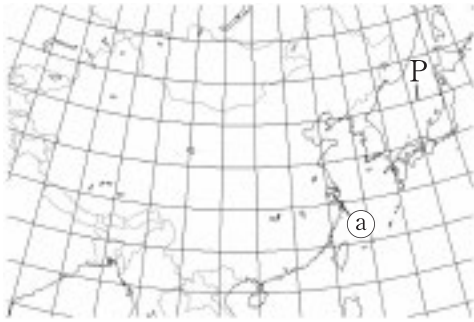
問5 次の□内は、略年表中の波線②について、資料Ⅲを参考にまとめたものである。{ a }にあてはまる内容を「軍需物資」と「日本経済」の語句を使って書け。また、(b)にあてはまる語句を書け。

アメリカは、{ a }、経済復興が早まった。またそのさなか、警察予備隊が組織され、次第に強化され現在の(b)となった。

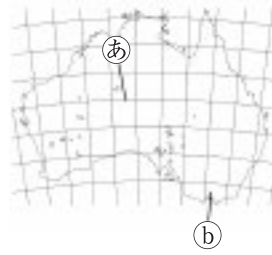
3 慶太郎さんは、世界の国の特色などについて調べるため、略地図を作成し、資料を集めた。略地図と資料をみて、各問に答えよ。

〈略地図〉

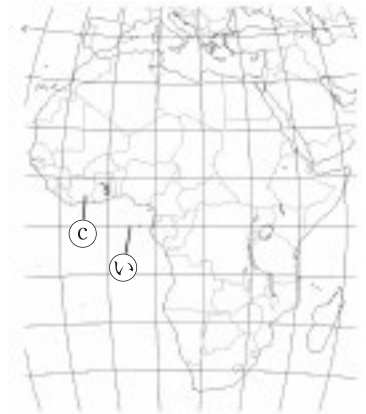
A



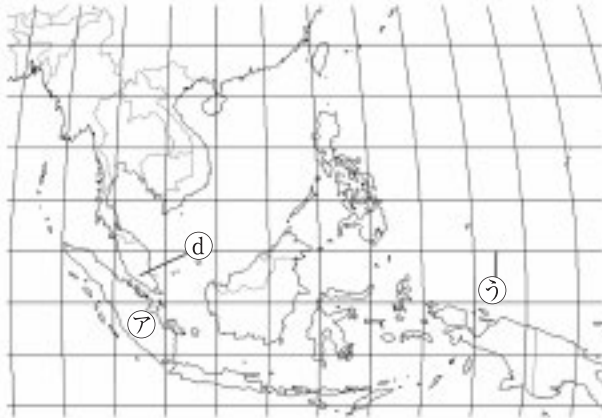
B



C



D



E



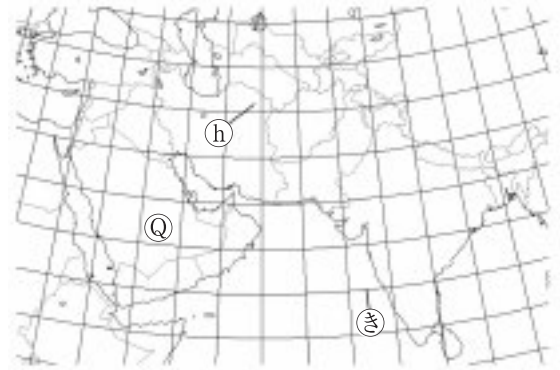
F



G



H

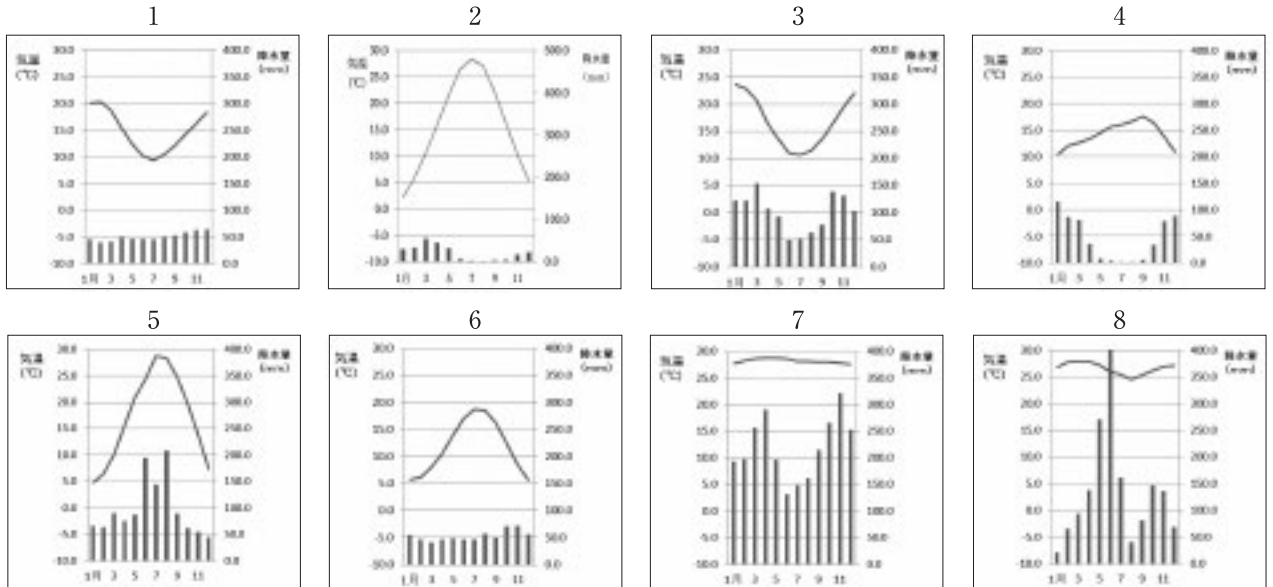


問1 略地図Aに示すPの緯線と同じ緯度の緯線を、略地図BCDEFGHの㉔～㉖から一つ選び、記号で答えよ。

問2 ハワイのホノルル(西経150度)を現地時刻の1月1日午後11時に飛び立った飛行機が最短距離を飛んで、8時間かけて東京に着いた。東京は何月何日の何時か答えよ。ただし、時刻には午前か午後を記入すること。

問3 次の資料Iの雨温図の1～8は、略地図の㉔～㉙のいずれかの都市の雨温図である。㉚にあてはまるものを、後の1～8から一つ選び、番号で答えよ。

〈資料I〉



問4 次の資料IIのX～Zは、略地図の㉔～㉙の各国のいずれかを示している。X～Zにあてはまる国を正しく組み合わせたものを、後の1～6から一つ選び、番号で答えよ。

〈資料II〉

項目 国	輸出総額 (百万ドル) 2018年	輸出上位3品目と 輸出総額に占める割合 (%) 2018年	輸出相手国上位5ヶ国 2018年				
			第1位	第2位	第3位	第4位	第5位
X	490840	機械類(21.0) 自動車(10.8) 金(非貨幣用)(6.6)	アメリカ合衆国	ドイツ	オランダ	フランス	アイルランド
Y	75482	銅鉱(24.8) 銅(23.8) 野菜・果実(9.5)	中国	アメリカ合衆国	日本	韓国	ブラジル
Z	180215	石炭(13.3) パーム油(9.2) 機械類(8.2)	中国	日本	アメリカ合衆国	インド	シンガポール

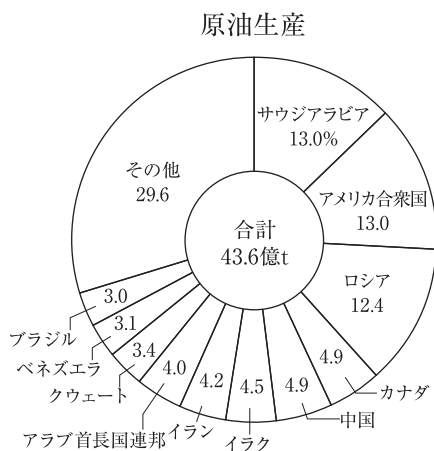
〔「世界国勢図絵 2020 / 2021」より作成〕

- 1 X-㉔ Y-㉕ Z-㉖ 2 X-㉗ Y-㉘ Z-㉙ 3 X-㉚ Y-㉛ Z-㉜
4 X-㉝ Y-㉞ Z-㉟ 5 X-㊱ Y-㊲ Z-㊳ 6 X-㊴ Y-㊵ Z-㊶

問5 次のノートは、慶太郎さんが日本との貿易のつながりが深い④の国について、まとめたものである。資料Ⅲ、Ⅳ、Ⅴを参考に、(a)にあてはまる語句を書け。また、[b]にあてはまる内容を「原油価格や生産量」の語句を使って書け。

〈ノート〉

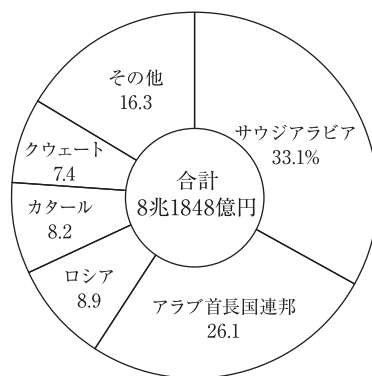
〈資料Ⅲ〉



[2015年、BP資料]

〈資料Ⅳ〉

日本の原油輸入先



[2015年、財務省貿易統計]

〈資料Ⅴ〉

原油価格の推移



注1：財務省「貿易統計」、日本銀行「金融統計月報」より帝国データバンク作成
 注2：原油価格は通関ベース(CIF価格)

【考えたこと】

④の国も含む西アジアの主な産油国は、(a)に加盟して原油価格や生産量を決めています。そのため、日本など原油を輸入に頼っている国々は、[b]。

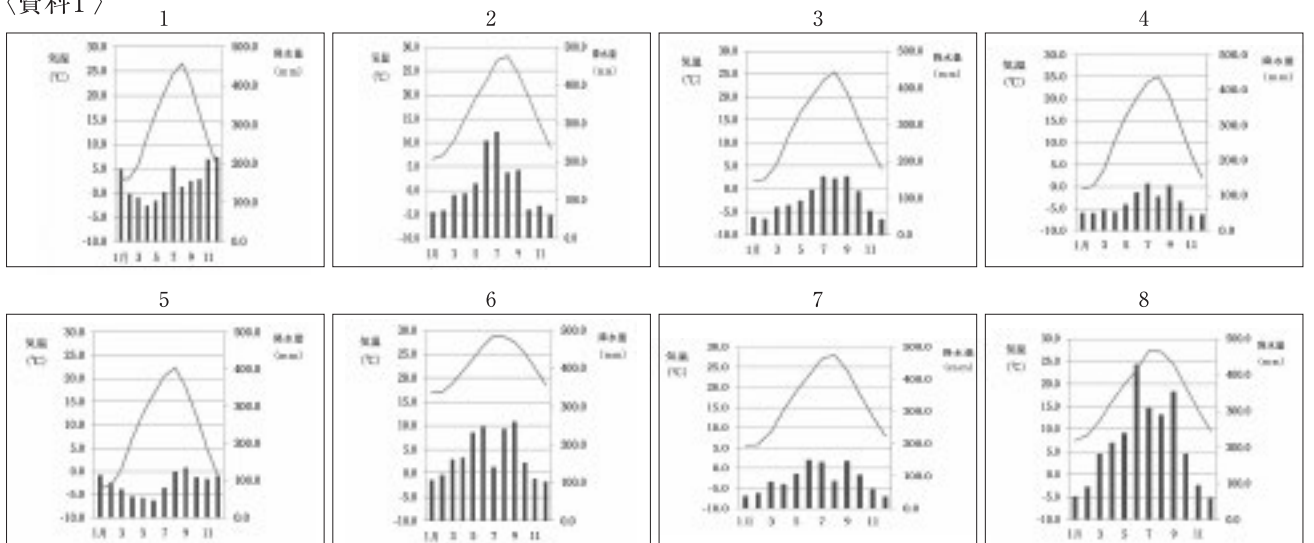
4 慶子さんは、日本の特色などについて調べるため、略地図を作成し、資料を集めた。略地図と資料をみて、各問に答えよ。

〈略地図〉



問1 次の資料Iの雨温図の1～8は、略地図の①～⑧のいずれかの都市の雨温図である。④にあてはまるものを、後の1～8から一つ選び、番号で答えよ。

〈資料I〉



問2 次の□内は、略地図のXについてまとめたものである。()にあてはまる語句を書け。ただし、()には同じ語句が入る。

九州南部には、()とよばれる古い火山の噴出物によってできた台地が広く分布している。
 ()台地は水田には向かないが、開発が進められ、畑作地や養豚地として大きく発展している。

問3 次の資料Ⅱをみて、①、②に答えよ。

〈資料Ⅱ〉

項目 都道府県	作物の収穫量			発電電力量 2019年	畜産 (億円) 2015年	製造品出荷額等(十億円) 2016年			おもな 伝統工芸品 ・特産物
	米(水稲) (千t) 2018年	茶 (千t) 2017年	ぶどう (千t) 2017年	太陽光 (百万kWh)		鉄鋼業	化学工業	石油製品 ・石炭製品	
A	156	・・・	17	777	560	775	962	1200	備前やき
B	80	1505	・・・	391	522	209	1726	27	桜えび
C	2.2	・・・	・・・	15	426	21	8	6	さとうきび
D	371	・・・	・・・	593	743	150	74	450	こけし
E	301	・・・	・・・	542	1350	1493	2191	2232	らっかせい

〔「・・・」は、出荷量が少ないため、調査されていないことを示す。太字は全国第5位まで。「データでみる県勢2021」、「農林水産省統計情報」、「2020データブック」より作成〕

① 資料ⅡのA～Eには、略地図の㊶～㊸の県のいずれかがあてはまる。Dにあてはまる県の県庁所在地を答えよ。(漢字表記の場合は漢字で答えよ)

② 下のノートは、慶子さんがEにあてはまる県にみられる製造品出荷額に着目し、まとめたものである。
 []にあてはまる内容を、資料Ⅲから読み取り、「船」の語句を使って書け。

〈ノート〉

〈資料Ⅲ〉 日本の主な工業地帯と工業地域

【考えたこと】
 Eの県を中心とした京浜工業地帯や京葉工業地域、その他の工業地帯や工業地域のほとんどは、
 []だから、海に面した場所に多く立地している。

問4 次の□内は、慶子さんの学校での会話の一部である。①、②、③に答えよ。

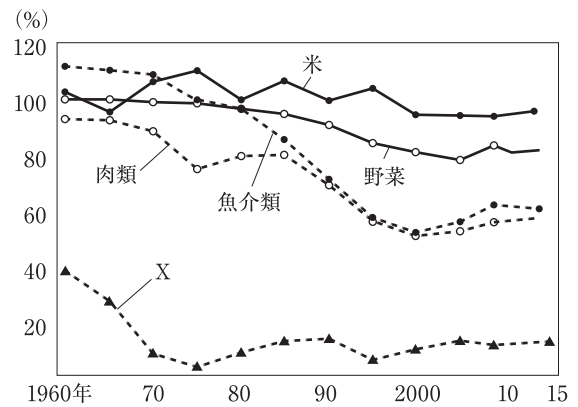
〈会話文〉

慶子さん：質問ですが。最近、資料Ⅳのような標識をまちなかでよくみかけます。
 先生：そうですね。このような標識は、災害に備えて〔 a 〕ために自治体が設置しているのですよ。
 慶子さん：なるほど。これからは、日頃から意識して標識を見るように心がけます。
 先生：そうですね。また自分の住んでいるまちのハザードマップを見ておくことも大切ですね。
 慶子さん：はい。もう一つ質問です。この間新聞で、資料Ⅴのグラフが掲載されており、日本の食料自給率が低下していると知りました。食料自給率が低い状態が続くと、どんなことが起こるのですか。
 先生：世界的な不作や戦争や災害などで〔 b 〕ような状況になった場合に、食糧を安定的に確保できなくなる危険性があります。
 慶子さん：どうすれば、食料自給率が上がるのですか。
 先生：農業の担い手を確保することや、地産地消を広めていくことなどが取り組みとして始められている地域もあります。農業従事者の営農意欲を高めさせ、地域の農業と関連産業の活性化になっています。これも食料自給率を増やす一つの方法でしょう。
 慶子さん：はい。これから意識を変えて生活していこうと思います。

〈資料Ⅳ〉



〈資料Ⅴ〉



- ① 会話文中の〔 a 〕にあてはまる内容を答えよ。
- ② 会話文中の〔 b 〕にあてはまる内容を答えよ。
- ③ 下線部について、資料ⅤのXはパンやうどんの原料となるものである。Xを答えよ。

5 次の日本国憲法や資料をみて、各問に答えよ。

【日本国憲法】

第9条

- ① 日本国民は、正義と秩序を基調とする国際平和を誠実に希求し、国権の発動たる戦争と、武力による威嚇又は武力の行使は、A.国際紛争を解決する手段としては、永久にこれを放棄する。
- ② 前項の目的を達するため、陸海空軍その他の(a)は、これを保持しない。国の交戦権は、これを認めない。

第11条

国民は、すべての基本的人権の享有を妨げられない。この憲法が国民に保障するB.基本的人権は、侵すことのできない永久の権利として、現在及び将来の国民に与えられる。

第28条

勤労者の団結する権利及び団体交渉その他の団体(b)をする権利は、これを保障する。

第66条

- ③ C.内閣は、行政権の行使について、(c)に対し連帯して責任を負う。

第92条

地方公共団体の組織及び運営に関する事項は、D.地方自治の本旨に基いて、法律でこれを定める。

第96条

- ① この憲法の改正は、各議院の総議員の3分の2以上の賛成で、国会が、これを発議し、国民に提案してその承認を経なければならない。この承認には、特別の国民投票又は国会の定める選挙の際行われる投票において、その(d)の賛成を必要とする。

問1 (a)(b)(c)(d)にあてはまる語句の組み合わせとして正しいものを、次の1～4から一つ選び、番号で答えよ。

- | | | | | |
|---|------|------|-------|--------|
| 1 | a-武力 | b-行動 | c-衆議院 | d-3分の2 |
| 2 | a-戦力 | b-運動 | c-国会 | d-3分の2 |
| 3 | a-戦力 | b-行動 | c-国会 | d-過半数 |
| 4 | a-武力 | b-運動 | c-衆議院 | d-過半数 |

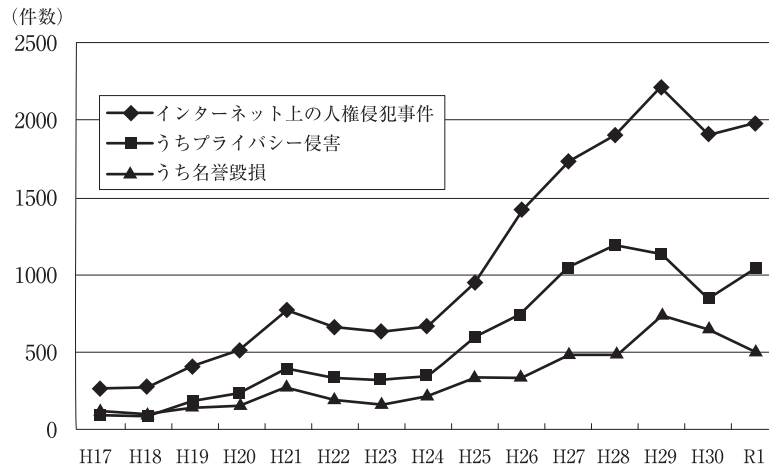
問2 下線部Aに関連して、それぞれの紛争について述べた文として最も適当なものを、次の1～4から一つ選び、番号で答えよ。

- 1 アメリカで起きた同時多発テロのように、特定集団によるテロリズムもおこるようになっている。
- 2 ロシアを中心とした多国籍軍がイラクに対して攻撃を開始した戦争を湾岸戦争という。
- 3 アメリカは大量破壊兵器を保有しているとの理由でアフガニスタンに侵攻した。
- 4 ユーゴスラヴィアの紛争の解決により、ソ連とアメリカの冷戦が終結した。

問3 後の□内は、下線部Bに関連して、インターネット上の人権侵害情報に関する人権侵害事件をまとめたものである。〔 〕にあてはまる内容を、資料Iから読み取れることと関連づけて、「侵害」の語句を使って書け。

〈資料I〉

インターネット上の人権侵害情報に関する人権侵害事件



〔法務省「平成31年及び令和元年における「人権侵害事件」の状況について」他、各年度を基に作成〕

インターネットや携帯電話の普及により、自分では気がつかないうちに、〔 〕が増えている。

問4 次の□内のX・Yは、下線部Cに関連した文である。その正誤の組み合わせとして正しいものを、後の1～4から一つ選び、番号で答えよ。

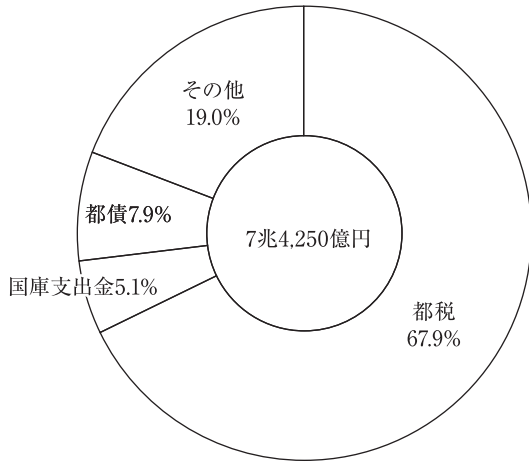
X： 内閣の仕事として、予算や法律を議決することなどがあり、内閣不信任案が可決されると、内閣は総辞職するか、10日以内に衆議院を解散するか選択しなければならない。

Y： 税金など国民の負担は軽いが、行政や福祉サービスの水準が低い政府を「大きな政府」、負担は重くてもサービスが手厚い政府を「小さな政府」という。

- 1 X-正 Y-正
- 2 X-正 Y-誤
- 3 X-誤 Y-正
- 4 X-誤 Y-誤

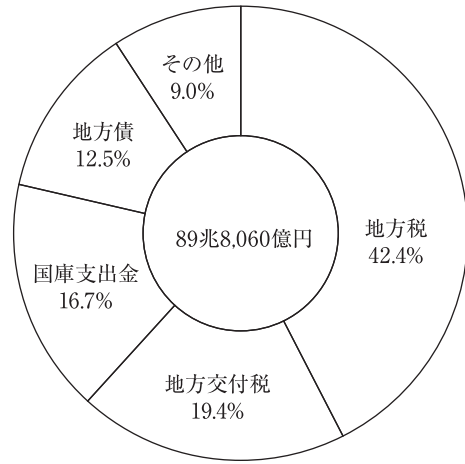
問5 後の□内は、下線部Dに関連して、東京都と地方全体の歳入比較についてまとめたものである。
 []にあてはまる内容を、資料Ⅱ、Ⅲから読み取れることと関連づけて、「自主財源」と「依存財源」の語句を使って書け。

〈資料Ⅱ〉 東京都の歳入内訳
 (令和3年度一般会計当初予算)



〔「東京都の財政」より作成〕

〈資料Ⅲ〉 地方全体の歳入内訳
 (令和3年度地方財政計画)



〔「東京都の財政」より作成〕

自主財源が豊富な都市部と比べ、地方は[]傾向がある。

6 慶子さんの家での会話文を読み、後の問に答えよ。

〈会話文〉

慶子： 今日学校の授業で、コロナの影響などで景気が落ち込み、国の財政状況が厳しいということを先生が話をしていたけど、どうなのかな。

父： 確かに景気も悪いし、A.ガソリンの値段も上がっているし、大変だよ。

慶子： 国の税収が減れば、私たちの暮らしにも影響が出る可能性があるのかな。

父： そうならないように、政府はB.景気の状況を見極めて、色々な対策をしていくと思うよ。

慶子： C.社会保障関係の費用の問題もあるし、大変だね。

父： 難しい問題だね。景気を良くするためには、今は環境への配慮やD.暮らしやすいまちづくりも考えて経済活動していかなければならないしね。

慶子： なるほどね。それもそうだけど、コロナ禍もありE.「リモートワーク」など働き方改革の話もしていたけど、お父さんはどうかな。

父： そうだね。お父さんの会社もそういう取り組みをしようとしているところだよ。

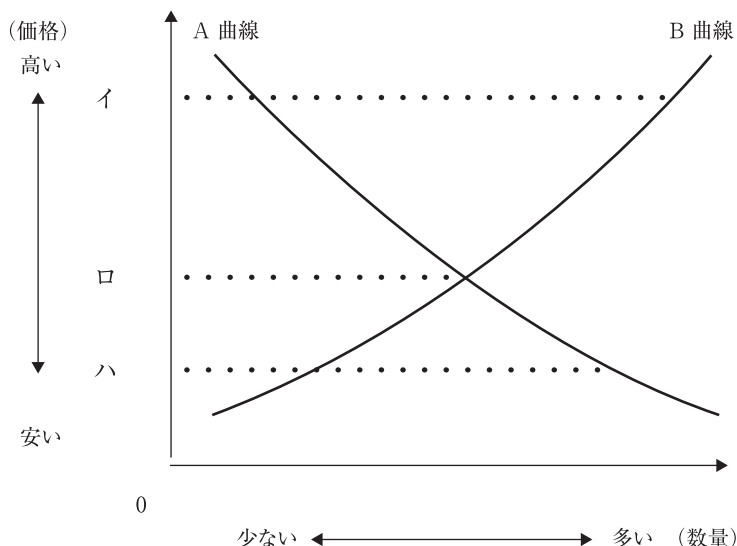
慶子： そうなんだ。より良い環境で仕事ができると効率も上がり、会社も良くなりそうだね。

問1 下線部Aに関連して、下図は、自由な競争が行われている市場における、価格と数量を表したものである。次の□内の〔 a 〕と〔 b 〕には、「品不足」と「売れ残り」の語句をそれぞれどちらかに使い、価格の変化を説明せよ。また、(c)にあてはまる語句を答えよ。

一般的に、A曲線は、価格と買い手が希望する購入量との関係を示しており、B曲線は、価格と売り手が希望する販売量との関係を示している。価格がイの場合は、〔 a 〕。価格がハの場合は、〔 b 〕。

このように商品の価格は、買い手が希望する購入量と売り手が希望する販売量の関係で変化し、やがて、それぞれの数量が一致する価格口に落ち着く。価格口は市場価格の中でも(c)価格と呼ぶ。

〈図〉



問2 下線部Bに関連して、①、②に答えよ。

① 好景気の場合、政府が行う財政政策はどのようなものがあるか、次の語群を使用し、簡潔に答えよ。
【語群】税金 公共事業

- ② 日本銀行の金融政策について、次の□内の(a)と(b)にあてはまる語句の組み合わせとして適当なものを、後の1～4から一つ選び、番号で答えよ。

日本銀行は、(a)のとき、一般の銀行に国債などを売り、一般の銀行がもつ通貨量を(b)、景気を調整しようとする。

- 1 a-不景気 b-増やし
- 2 a-不景気 b-減らし
- 3 a-好景気 b-増やし
- 4 a-好景気 b-減らし

- 問3 次の□内のX・Yは、下線部Cに関連した文である。その正誤の組み合わせとして正しいものを、後の1～4から一つ選び、番号で答えよ。

X: 社会保障制度における公的扶助とは、障がいのある人や高齢者など社会的なサポートが必要な人たちに対して、生活の保障や支援サービスを提供するしくみのことである。
Y: 介護保険制度とは、介護が必要になったときに介護サービスを受けられる制度であり、20歳以上の人が支払う介護保険料と税金でまかなっている。

- 1 X-正 Y-正
- 2 X-正 Y-誤
- 3 X-誤 Y-正
- 4 X-誤 Y-誤

- 問4 後の□内は、下線部Dに関連して、資料I、IIを参考に説明したものである。(a)にあてはまる語句を書け。また、(b)にあてはまる内容を、「設計」の語句を使って書け。

〈資料I〉

ノンステップバス





階段に車いす用のスロープを付けるなど、物理的・心理的な「壁」を取り除く(a)や、[b]にするユニバーサルデザインをひろげていくことで、すべての人にとって、暮らしやすいまちにし、年齢や、障がいがあるかないかに関わらず、みな同じように社会の一員として自立した生活が送れる世の中にするにつなげていく。

問5 下線部Eに関連して、労働問題に関わる文として適当でないものを、次の1～4から一つ選び、番号で答えよ。

- 1 不安定で不利な立場におかれる非正規社員の数が増え、正規社員も「サービス残業」が続き、長時間労働によって過労死したりするなど、深刻な問題が生じている。
- 2 経済のグローバル化が進み競争が激しくなり、年功序列型賃金から能力給へ転換し、終身雇用を見直す企業が出てきた。
- 3 仕事と家庭生活との両立をめざす考えを「ワーク・ライフ・バランス」というが、実現できるような制度や仕組みがまだ十分に整っていない。
- 4 働き先が見つからず、賃金が安くて生活に困っている「ワーク・シェアリング」とよばれる人たちが増え、所得格差の拡大の大きな要因となっている。