

慶成高等学校

令和3年度一般入学試験問題

社 会

注意

- 1 試験開始の合図があるまで、この問題冊子を開かないでください。
- 2 問題は、1ページから16ページまであります。
- 3 解答はすべて解答用紙の所定の欄に記入してください。
- 4 解答用紙の※印の欄には、何も記入しないでください。
- 5 試験時間は50分間です。
- 6 試験終了の合図で筆記用具を置き、解答用紙を裏返しにして、机の上に置いてください。
- 7 解答用紙のみ提出し、問題冊子は持ち帰ってください。

1 慶子さんは、わが国の各時代の特色についてのできごとをノートにまとめた。ノートをみて、各問に答えよ。

〈ノート〉

〈表〉

時代	特色
古代	○ア6年ごとに人口を調べ、6歳以上の男女に口分田を貸し与えた。 ○①山上憶良の「貧窮問答歌」からは、貧しい農民の生活の様子をうかがうことができる。
中世	○②幕府は永仁の徳政令を出し、御家人の領地の売買や質入れを禁止した。 ○イ土倉や酒屋などが納める税が重要な財源の一つになった。
近世	○〔 X 〕 ○ウ商人の豊かな経済力を利用し、財源の安定を図った。
近代	○③尊王攘夷が高まり、薩摩藩や長州藩を中心に倒幕運動がおこった。 ○エ. 税収入を安定させるため土地の売買を自由にし、全国の土地を調査した。

〈資料〉



問1 表の下線部①について、最も関係するものを、次の1～4から一つ選び、番号で答えよ。

- 1 『南総里見八犬伝』 2 『万葉集』 3 『古今和歌集』 4 『方丈記』

問2 次の□内の文は、表の下線部ア～エのいずれかのできごとと関係があるが、最も関係するものを、ア～エから一つ選び、記号で答えよ。

土地の所有者に地価の3%を現金で納めさせた。

問3 表の下線部②について、次の□内は、資料を参考にして、この法令が出された背景をまとめたものである。〔 〕にあてはまる内容を「恩賞」の語句を使って書け。

元軍との戦いで日本軍は火器や集団戦法に苦しめられたが、暴風雨の影響もあり九州を中心とする御家人の活躍により元軍は退却した。しかし、幕府は御家人に対して〔 〕、幕府への不満が高まり、さらに御家人は分割相続を繰り返し、領地が減少し商業の発達とともに支出が増加し、貨幣経済にも対応できていなかったため、高利貸しに借金を重ねて領地を失う御家人も出てきた。

問4 次の□内は、表の〔 X 〕にあてはまる内容を説明したものである。()にあてはまる語句を漢字で書け。

1639年にはポルトガル船の来航を禁止し、2年後オランダ商館が長崎の出島に移ったことで()とよばれる状態が完成した。

問5 表の下線部③について、次の1～4はその前後に起きた事柄である。年代の古い順に並べよ。

- 1 京都で鳥羽・伏見の戦いがおこり、戊辰戦争がはじまった。
- 2 岩倉具視を全権大使とし、アメリカ合衆国やヨーロッパ諸国に派遣された。
- 3 藩主に土地(版図)と人民(戸籍)を返納させた。
- 4 鹿児島の不平等士族が西郷隆盛を首領として戦争を引き起こした。

2 慶太郎さんは、近現代のできごとをノートにまとめた。ノートをみて、各問に答えよ。

〈ノート〉

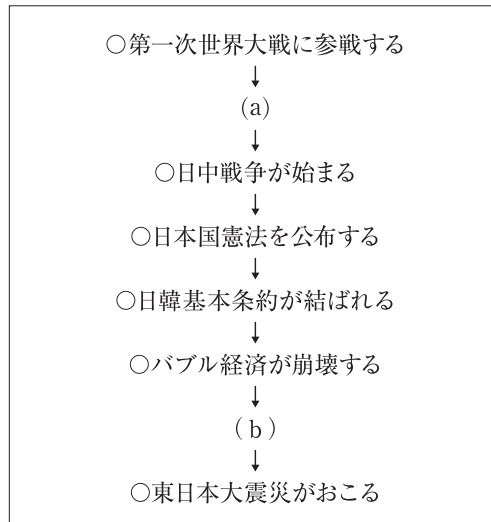
近現代の特色

〈資料Ⅰ〉



ノルマントン号が沈没し、日本人乗客全員が水死した事件をフランス人のピゴールが描いた。

〈略年表〉



〈資料Ⅱ〉

A



ニューヨークでの株価の大暴落は、世界恐慌へと広がった。

B



犬養毅首相が海軍の青年将校らに殺害された。

C



日独伊三国同盟を結び、アメリカとの対立を深めた。

D



アメリカや日本がシベリアに出兵した。

〈資料Ⅲ〉



X.第18回オリンピックが東京で開かれる。

問1 次の□内は、資料Iの事件をきっかけとした条約改正に関する説明である。(a)(b)(c)にあてはまる語句を正しく組み合わせたものを、後の1～4から一つ選び、番号で答えよ。

ノルマントン号事件がおり、これを裁いたイギリス領事ははじめ、過失責任なしとして船長を無罪にしたため、国民の間に(a)の撤廃を求める声が高まり、後に外務大臣陸奥宗光がそれを実現させた。そして、もう一つの不平等条約であった(b)は、外務大臣(c)の時に日米通商航海条約を結ぶことで回復させ、不平等条約の改正を完全に達成した。

- 1 a-関税自主権 b-領事裁判権 c-井上薫
- 2 a-領事裁判権 b-関税自主権 c-井上薫
- 3 a-関税自主権 b-領事裁判権 c-小村寿太郎
- 4 a-領事裁判権 b-関税自主権 c-小村寿太郎

問2 略年表の(a)には、資料ⅡのA～Dのうち三つ入る。三つ選び、その三つを年代の古い順に並べよ。

問3 略年表の(b)にあてはまるできごとについて述べた文として適切なものを、次の1～4から一つ選び、番号で答えよ。

- 1 日本では、イラクに自衛隊が派遣された。
- 2 西ヨーロッパでは、ヨーロッパ共同体(EC)が結成された。
- 3 石油危機の後、第一回先進国首脳会議(サミット)が開かれた。
- 4 沖縄が日本に復帰した。

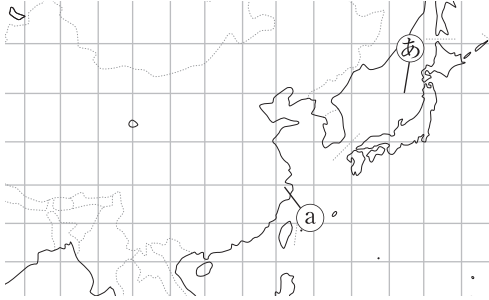
問4 資料Ⅲの下線部Xに関連して、1960年代の日本について説明したものとして、最も適切なものを、次の1～4から一つ選び、番号で答えよ。

- 1 自動車などの工業製品の輸出が増加し、アメリカとの貿易摩擦を引き起こした。
- 2 農地改革により多くの小作人が自作農となり、農村の民主化が進み生産量も増加していった。
- 3 朝鮮戦争で大量の軍需物資を調達したことで好景気になり、日本経済は復興が早まった。
- 4 公害が次々と発生し、政府は公害対策基本法を制定して、問題の解決に努めた。

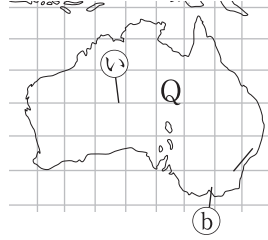
3 慶太郎さんは、世界の国の特色などについて調べるため、略地図を作成し、資料を集めた。略地図と資料をみて、各問に答えよ。

〈略地図〉

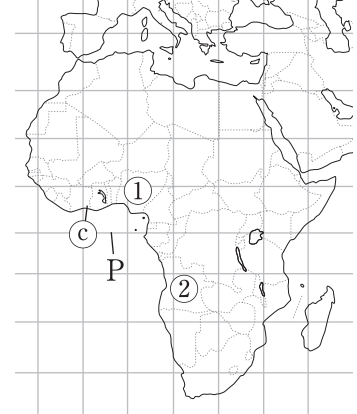
A



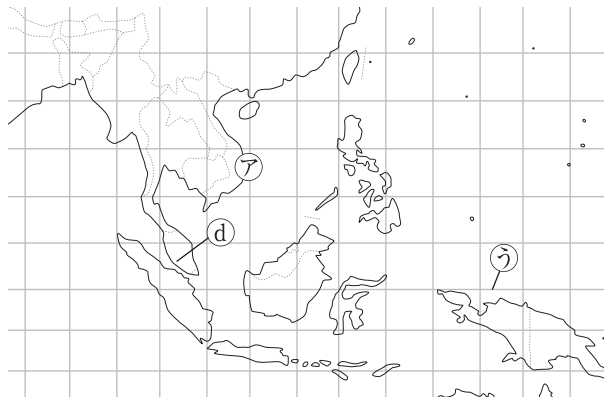
B



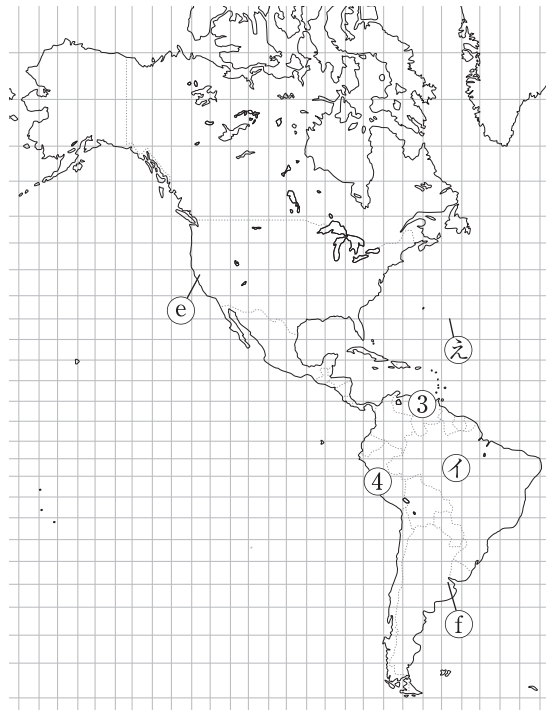
C



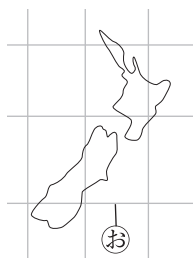
D



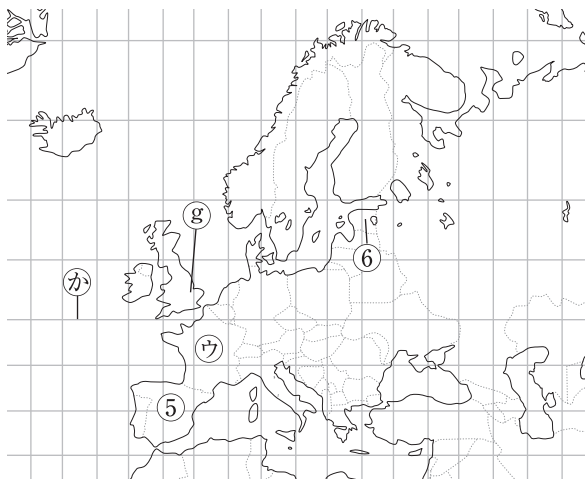
E



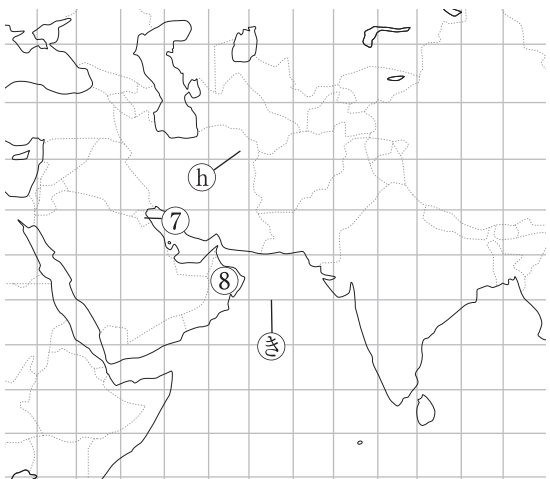
F



G



H

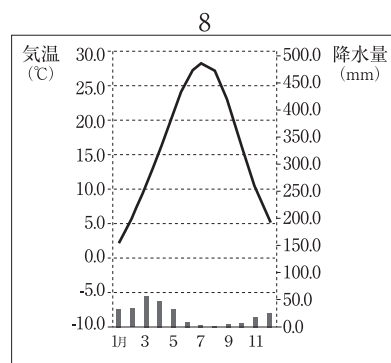
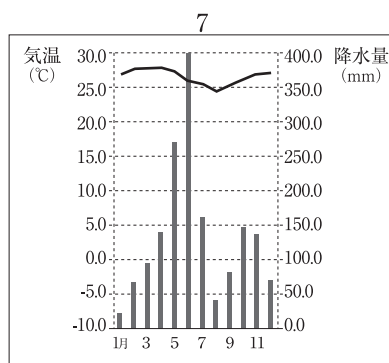
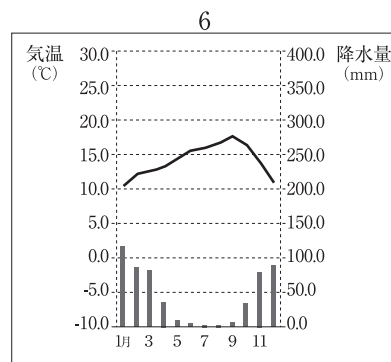
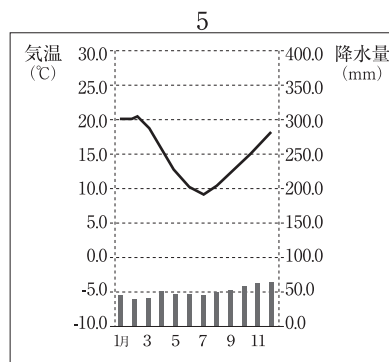
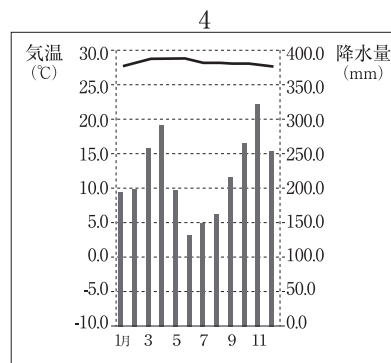
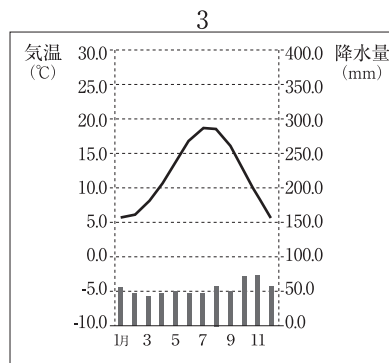
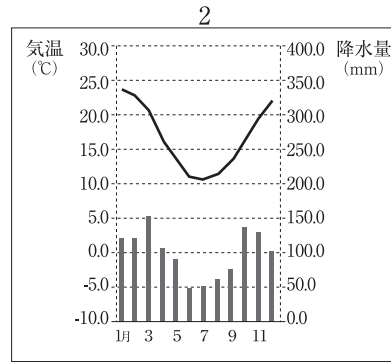
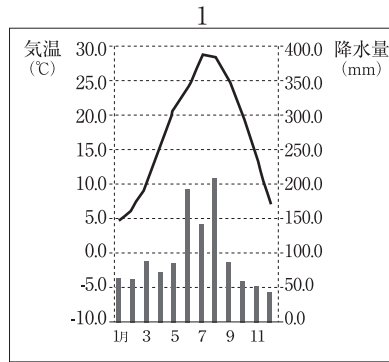


問1 略地図のCに示すPの緯線と同じ緯度の緯線を、略地図のABDEFGHの㉔～㉖から一つ選び、記号で答えよ。

問2 ロンドンを6月5日の午前8時に出発して飛行機で14時間かけて東京に到着した。東京に着いたのは何月何日の何時か。午前・午後をつけて答えよ。

問3 資料Iの雨温図の1～8は、略地図の㉔～㉗のいずれかの都市の雨温図である。㉗にあてはまるものを、後の1～8から一つ選び、番号で答えよ。

〈資料I〉



問4 資料ⅡのX～Zは、略地図の㉖～㉘の各国のいずれかを示している。X～Zにあてはまる国を正しく組み合わせたものを、後の1～6から一つ選び、番号で答えよ。

〈資料Ⅱ〉

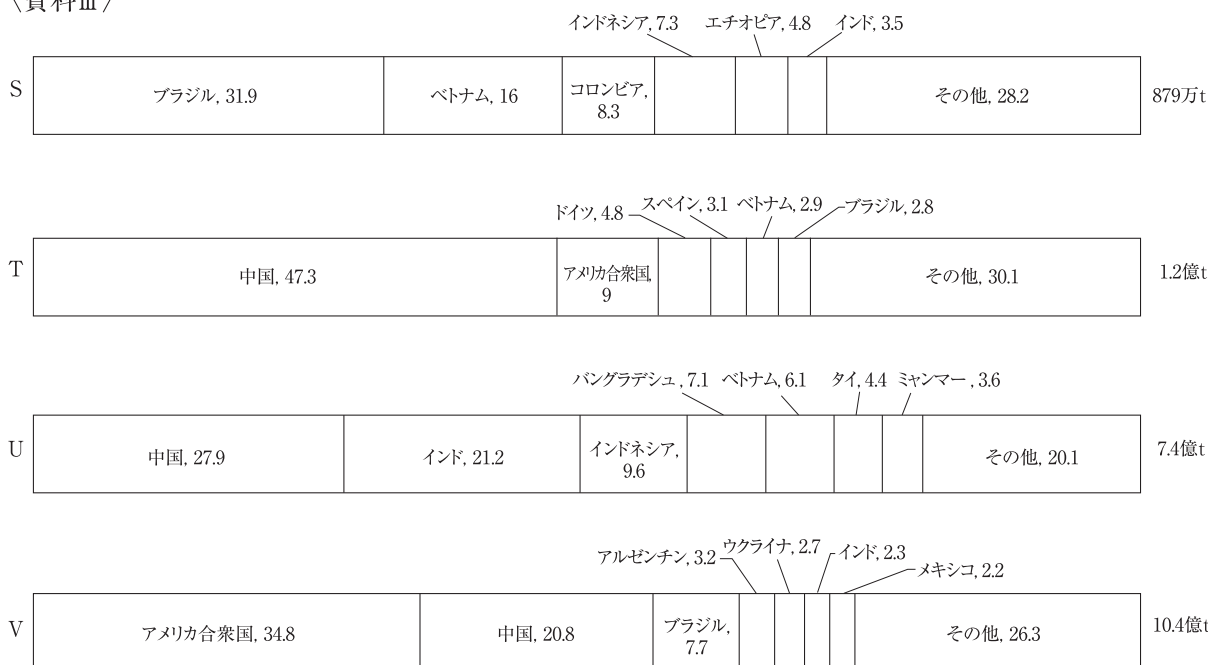
項目 国	2015年 人口密度 (人/km ²)	2015年 一人あたりの 国民総所得(ドル)	2014年 エネルギー 自給率(%)	2015年 輸出品目第1位 (百万ドル)	2015年 相手先貿易国 輸出1位(%)	2015年 輸出総額 (百万ドル)
X	104	40580	57	機械類 97108	ドイツ 15.9	493941
Y	24	9850	88	大豆 20984	中国 18.6	191127
Z	277	1980	107	機械類 57481	アメリカ 21.0	162017

(「世界国勢図誌 2017/2018」などから作成)

- 1 ㉖-X ㉗-Y ㉘-Z
- 2 ㉖-Y ㉗-X ㉘-Z
- 3 ㉖-Z ㉗-X ㉘-Y
- 4 ㉖-X ㉗-Z ㉘-Y
- 5 ㉖-Y ㉗-Z ㉘-X
- 6 ㉖-Z ㉗-Y ㉘-X

問5 資料ⅢのS～Vは、2014年の世界における米、とうもろこし、豚肉、コーヒー豆のいずれかの産物の生産量と生産量に占める国別の割合をそれぞれ表したものである。資料中のS～Vにあてはまる産物の組み合わせととして正しいものを、後の1～4から一つ選び、番号で答えよ。

〈資料Ⅲ〉



(「2018データブック」より作成)

- | | | | |
|-----------|----------|----------|----------|
| 1 S-コーヒー豆 | T-とうもろこし | U-豚肉 | V-米 |
| 2 S-豚肉 | T-とうもろこし | U-米 | V-コーヒー豆 |
| 3 S-豚肉 | T-コーヒー豆 | U-とうもろこし | V-米 |
| 4 S-コーヒー豆 | T-豚肉 | U-米 | V-とうもろこし |

問6 資料Ⅳは、略地図の①～⑧の国ごとのデータである。資料Ⅳの内容についての説明で最も適当なものを、後の1～4から一つ選び、番号で答えよ。

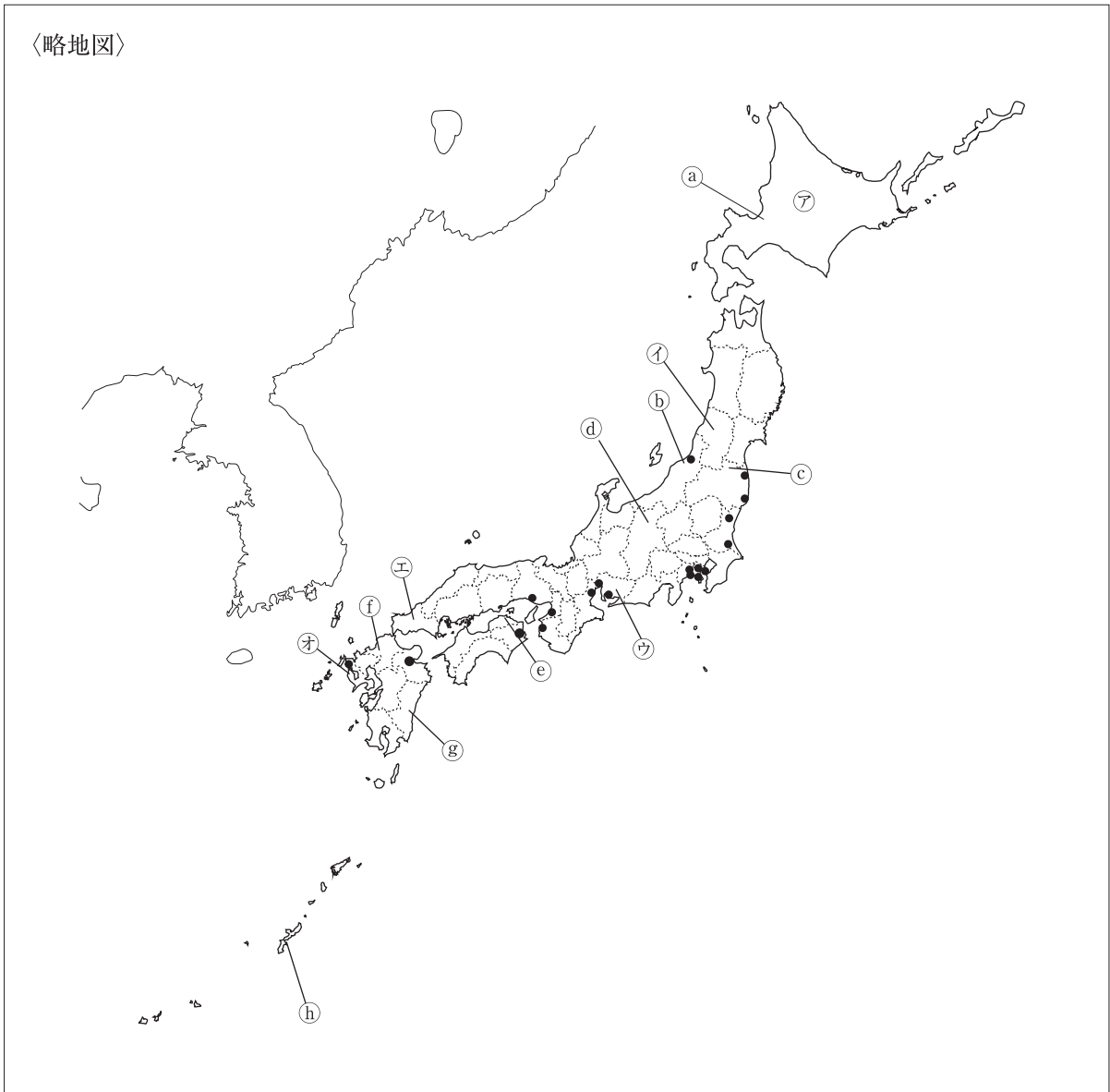
〈資料Ⅳ〉

項目 国	2015年 人口自然 増加率 (%)	2015年 乳児死亡率 (%)	2015年 識字率(%)		2016年 インターネット 利用者率(%)	2016年 国防費 (%)	2017年7月 為替レート (円)
			男	女			
①	26.4	69.4	69.2	49.7	25.7	0.4	0.36
②	31.6	96.0	82.0	60.7	13.0	3.0	0.69
③	13.7	12.9	95.1	95.7	60.0	0.4	11.41
④	14.0	13.1	97.3	91.5	45.5	1.2	34.74
⑤	0.0	3.5	98.8	97.5	80.6	1.0	129.85
⑥	-1.0	2.3	99.8	99.8	87.2	2.2	129.85
⑦	17.0	7.3	96.8	95.2	78.4	3.8	375.20
⑧	16.7	9.9	95.8	89.7	69.8	15.3	295.92

(「2018データブック」より作成)

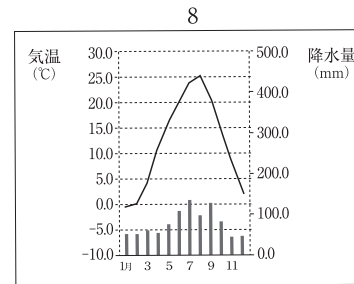
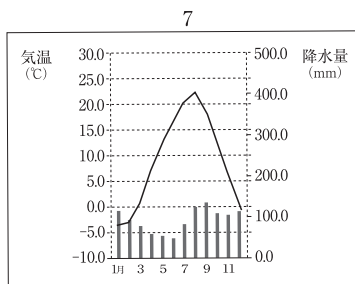
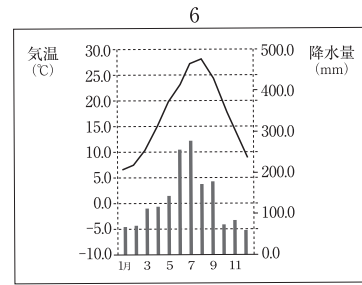
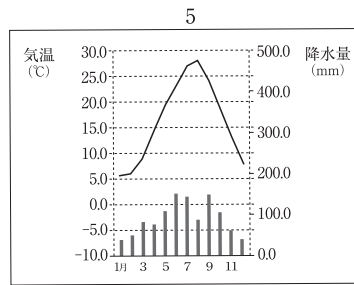
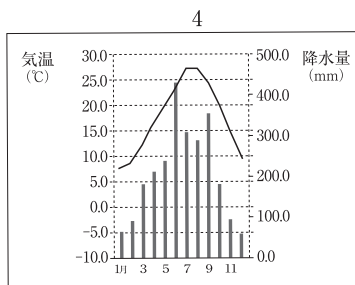
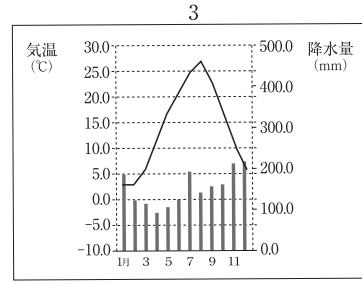
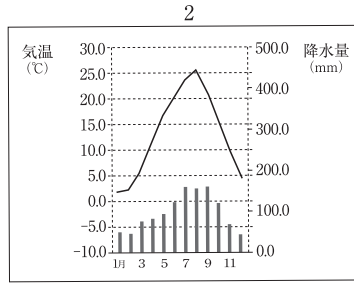
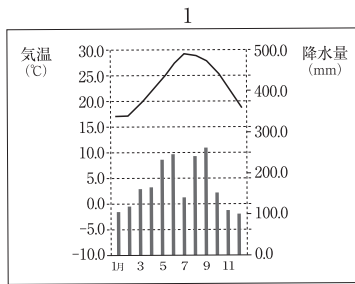
- 1 国防費が低い地域は円との為替レートも低い傾向にあり、その地域は人口自然増加率が高くインターネット利用率も高い傾向にある。
- 2 アフリカ州は乳児死亡率が高いため人口自然増加率も高くなっており、識字率も他の州に比べ低くなっておりインターネット利用率も比例して低い。
- 3 ヨーロッパ州とアジア州は南米州よりも経済が安定しており、それにより識字率やインターネット利用率も極めて高い傾向にある。
- 4 乳児死亡率が高い地域は人口自然増加率が高くなっており、円との為替レートが低い地域はインターネット利用率や識字率が他の地域よりも相対的に低い傾向にある。

- 4 慶子さんは、日本の特色などについて調べるため、略地図を作成し、資料を集めた。略地図と資料をみて、各問に答えよ。



問1 資料Iの雨温図の1～8は、略地図の①～⑧のいずれかの都市の雨温図である。⑧にあてはまるものを、後の1～8から一つ選び、番号で答えよ。

〈資料I〉



問2 資料ⅡのA～Eには、略地図の㊦～㊩の県のいずれかがあてはまる。

①Aにあてはまる県の県庁所在地を漢字で答えよ。

②次の [] 内は、慶子さんがDにあてはまる県を含む東北地方について調べ、なぜ東北地方では銘柄米が多くつくられているのか疑問に思い、調べた内容である。[] にあてはまる内容を、「やませ」「冷害」の語句を使って書け。

東北地方の太平洋側では、[]、低温に強い米の品種改良が進み、品質の高い銘柄米がつくられている。

〈資料Ⅱ〉

項目 都道府県	作物の収穫量			畜産 2015年	海面漁業 就業者数 (人) 2015年	製造品出荷額等(十億円) 2014年			65歳以上 人口割合 (%) 2017年
	米 (千t) 2016年	ばれいしょ 〔じゃがいも〕 (百t) 2015年	さくらんぼ (t) 2015年	肉用牛 (千頭)		金属製品	鉄鋼業	石油製品 石炭製品	
A	140	3	・・・	42	4319	1414	2557	1208	24.5
B	106	3	・・・	16	5106	176	636	1423	32.7
C	58	93	・・・	76	14310	56	35	2	30.2
D	387	4	14200	38	474	89	33	7	31.4
E	568	1907	923	513	29652	266	557	1616	29.7

(「・・・」は、出荷量が少ないため、調査されてないことを示す。太字は全国第5位まで。

〔日本国勢図絵2017/2018〕、「農林水産省統計情報」、「2018データブック」より作成)

問3 略地図中の ● 印で表しているのは、2014年におけるわが国の最大出力200万kW以上の火力発電所である。次の [] 内は、これらの火力発電所が内陸部ではなく、臨海部につくられている理由を説明したものである。[] にあてはまる内容を答えよ。

火力発電に使われている燃料の輸送の大部分は、[]。

問4 次の [] 内は、慶子さんが日本の産業について調べ、携帯電話やパソコンなどに使用されている資料Ⅲのレアメタル(希少金属)に関して広がっている動きについて、資料Ⅳをふまえて説明したものである。[] にあてはまる内容を答えよ。

日本では、ほぼすべてを輸入している状態であるが、供給上不安定な要素も抱えているので、できるだけ輸入に頼らずにレアメタルの使用を続けていくために、不要となった携帯電話やパソコンから [] という動きが広がっている。

〈資料Ⅲ〉



〈資料Ⅳ〉

レアメタルについて

- ・日本では、リチウム・チタン・白金・希土類など31種類の鉱物をレアメタルと定義している。
- ・レアメタルの一種で希土類という元素の総称である「レアアース」は日本産業を支える重要な元素であり、日本は世界需要の約半分を占め、そのほとんどは世界産出国の97%を占める中国からの輸入に頼っている。
- ・携帯電話やパソコンに多く使用されている。

5 次の日本国憲法や資料をみて、各問に答えよ。

〈日本国憲法〉

前文

日本国民は、正当に選挙された・・・

日本国民は、(a)を念願し、人間相互の関係を支配する崇高な理想を深く自覚するのであって、平和を愛する諸国民の公正と信義に信頼して、われらの安全と生存を保持しようと決意した。・・・

第25条 ①すべて国民は、(b)で文化的な最低限度の生活を営む権利を有する。

第47条 選挙区、A.投票の方法その他両議院の議員の選挙に関する事項は、法律でこれを定める。

第54条 ①B.衆議院が解散されたときは、解散の日から(c)日以内に、衆議院議員の総選挙を行い、その選挙の日から30日以内に、国会を召集しなければならない。

第76条 ①すべてC.司法権は、最高裁判所及び法律の定めるところにより設置する下級裁判所に属する。

③すべて裁判官は、その(d)に従い独立してその職権を行い、この憲法及び法律にのみ拘束される。

第92条 地方公共団体の組織及び運営に関する事項は、D.地方自治の本旨に基いて、法律でこれを定める。

問1 日本国憲法の(a)(b)(c)(d)にあてはまる語句の組み合わせとして正しいものを、次の1～4から一つ選び、番号で答えよ。

- | | | | | |
|---|---------|------|------|------|
| 1 | a-恒久の繁栄 | b-快適 | c-10 | d-良心 |
| 2 | a-恒久の平和 | b-健康 | c-40 | d-良心 |
| 3 | a-恒久の繁栄 | b-健康 | c-10 | d-善意 |
| 4 | a-恒久の平和 | b-快適 | c-40 | d-善意 |

問2 下線部Aについて、次の[]内は、比例代表制の特徴を説明したものである。[]にあてはまる内容を、「死票」「政党」の語句を使って書け。

小選挙区制に比べ、[]、国民の意見を反映しやすい。

問3 下線部Bについて、次の[]内は、衆議院の優越の説明である。[]にあてはまる内容を、「任期」「解散」の語句を使って書け。

衆議院は参議院に比べ、[]、国民の意思をよりの確に反映すると考えられているので優越されている。

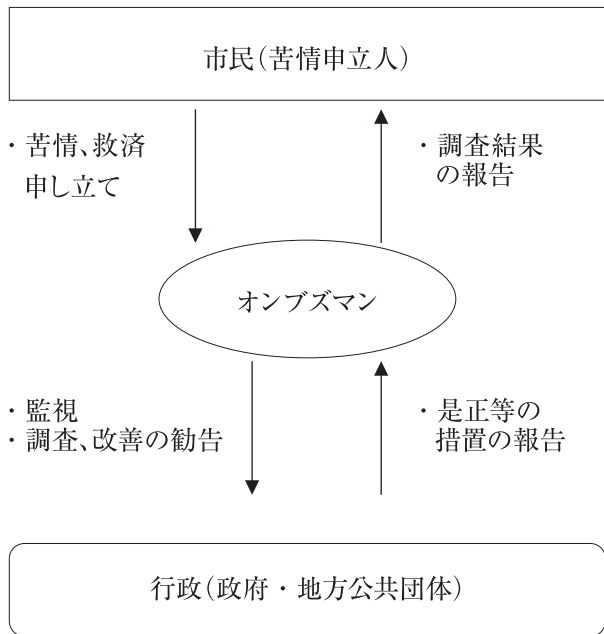
問4 下線部Cについて、次の[]内は、裁判で新しい証拠が出てきた場合、一度判決が確定した後に、やり直しをおこなう再審という制度の説明である。[]にあてはまる内容を答えよ。

再審は、裁判において[]のために設けられた制度である。

問5 下線部Dについて、次の [] 内は、スウェーデンではじまったオンブズマン制度について説明したものである。後の資料を参考にし、[] にあてはまる内容を、「監視」の語句を使って書け。

政府や地方公共団体などの公的機関を[]を行うしくみ。

〈資料〉



6 慶子さんの学校での会話文を読み、後の問に答えよ。

慶子：新型コロナの影響で景気が見通せないとニュースで言っていました。どうなるのですか？

先生：難しいですね。①消費も落ち込んでいますし、政府は様々な景気対策をしていくと思いますが、日本銀行も金融政策を行うなどして対応していくと考えられます。

慶子：そうなんですね。政府も日本銀行もきちんとした政策を行ってほしいです。ところで、携帯の料金が安くなるとかネットニュースで見ましたけど、携帯だけでなく、商品の価格はどうやって決まるのですか？

先生：携帯に限らず財(モノ)やサービスの価格(値段)というのは市場メカニズムによって決まってくるんだよ。

慶子：市場メカニズム?はじめて聞く言葉でよく分かりませんが。

先生：ごめんなさい。では、②市場メカニズムをグラフで説明しよう。

慶子：よくわかりました。政府も③企業もわたしたちの暮らしが少しでも豊かになるような努力をしてほしいと思います。

問1 下線部①について、消費者契約に関する説明として適当なものを、次の1～4から一つ選び、番号で答えよ。

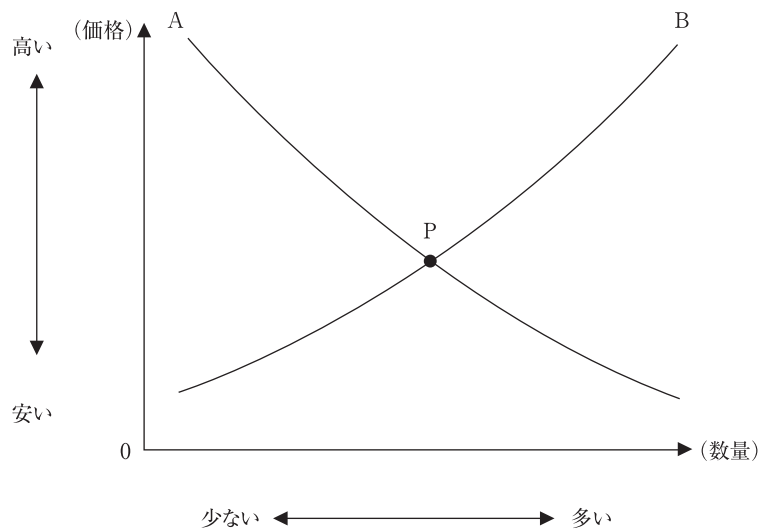
- 1 「これください」(買い手)、「はい」(売り手)といった、口頭でのやり取りだけでは、契約は成立しない。
- 2 消費者側から契約解除ができるクーリング・オフ制度も一定期間を過ぎてしまうと、契約解除ができなくなる。
- 3 事業者が不利益になる事実をわざとわずに、消費者が不当な売買契約をさせられた場合でも、契約を取り消すことができない。
- 4 マルチ商法であったとしても、契約とは当事者が自由な意思で結ぶものなので、一度成立すると無効にすることはできない。

問2 下線部②について、後の図は、自由な競争が行われている市場における、価格と数量を表したものである。次の説明文の(a)～(f)のあてはまる語句の組み合わせとして正しいものを、後の1～4から一つ選び、番号で答えよ。

〈説明文〉

後の図で、買い手の行動をあらわしているのは曲線(a)で、(b)曲線と呼ばれる。ある商品の価格が、何らかの要因で高くなったとする。価格が高くなったことにより、需要量が(c)なると予想される。また、供給量は(d)なると予想される。その結果、需要量が供給量を(e)。そして価格が安くなり、Pに戻ろうとする。このように、AとBの交点Pは、商品の需要量と供給量をちょうど一致させる価格を表している。この時の価格Pを(f)という。

〈図〉



- 1 a-B b-供給 c-少なく d-少なく e-上回る f-均衡価格
- 2 a-A b-需要 c-多く d-多く e-上回る f-独占価格
- 3 a-A b-需要 c-少なく d-多く e-下回る f-均衡価格
- 4 a-B b-供給 c-多く d-少なく e-下回る f-独占価格

問3 下線部③について、企業には私企業と公企業とがあり、私企業の中で最も代表的なものは、株式会社である。株式会社について誤って述べている文を、次の1～4から一つ選び、番号で答えよ。

- 1 株式会社は、株式を発行することで、多くの人から資金を集めることができる。
- 2 会社が利益をあげたときは、出資額の多い人に限り配当を受けることができる。
- 3 出資した人を株主といい、自分のもつ株式は自由に売買できる。
- 4 会社の基本的な方針は、すべての株主で構成される株主総会で決定される。